

EXERCICE 2 (6 points)

Commun à tous les candidats

*Les parties A, B et C sont indépendantes.
Si nécessaire, les résultats seront arrondis au centième.*

PARTIE A

Un club de football est composé d'équipes adultes masculines, adultes féminines et d'équipes d'enfants. Chaque week-end, la présidente Claire assiste au match d'une seule des équipes du club et elle suit :

- dans 10 % des cas, le match d'une équipe adulte féminine;
- dans 40 % des cas, le match d'une équipe adulte masculine;
- dans les autres cas, le match d'une équipe d'enfants.

Lorsqu'elle assiste au match d'une équipe masculine, la probabilité que celle-ci gagne est 0,6. Lorsqu'elle assiste au match d'une équipe d'enfants, la probabilité que celle-ci gagne est 0,54.

La probabilité que Claire voie l'équipe de son club gagner est 0,58.

On choisit un week-end au hasard. On note les événements suivants :

- F : « Claire assiste au match d'une équipe féminine »;
- M : « Claire assiste au match d'une équipe masculine »;
- E : « Claire assiste au match d'une équipe d'enfants »;
- G : « l'équipe du club de Claire gagne le match ».

Pour tous événements A et B , on note \bar{A} l'événement contraire de A , $p(A)$ la probabilité de A et, si B est de probabilité non nulle, $p_B(A)$ la probabilité de A sachant B .

1. L'arbre de probabilité est donné en annexe 1. Le compléter au fur et à mesure de l'exercice.
2. Déterminer la probabilité $p(M \cap G)$.
3. a) Démontrer que $p(F \cap G) = 0,07$.
b) En déduire $p_F(G)$.
c) La probabilité que l'équipe adulte féminine gagne un match est 0,47. La présence de Claire semble-t-elle favoriser la victoire de l'équipe adulte féminine?
4. Claire annonce avoir assisté à la victoire d'une équipe du club. Quelle est la probabilité qu'elle ait suivi le match d'une équipe adulte féminine?

PARTIE B

Au guichet, un supporter attend pour acheter son billet. On modélise le temps d'attente en minute par une variable aléatoire X qui suit la loi normale d'espérance $\mu = 30$ et d'écart-type $\sigma = 10$.

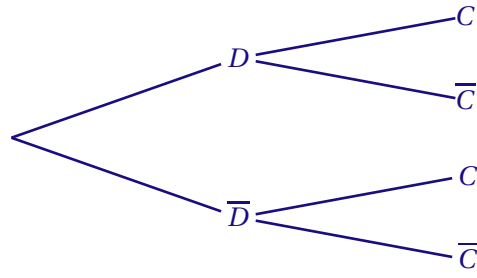
1. En moyenne, combien de temps attend ce supporter au guichet?
2. Le supporter ne dispose que de 15 minutes avant le début du match pour acheter son billet.
Quelle est la probabilité qu'il puisse acheter son billet avant le début du match?

PARTIE C

Des études statistiques ont montré que la probabilité qu'un enfant se réinscrive d'une année sur l'autre dans le même club de football est 0,6.

1. Déterminer l'intervalle de fluctuation asymptotique au seuil de 95 % de la proportion d'enfants se réinscrivant d'une année sur l'autre pour un échantillon de 75 enfants pris au hasard dans le même club de football.
2. 52 des 75 enfants du club de Claire veulent se réinscrire en septembre 2018.
La victoire de la France aux championnats du monde en 2018 a-t-elle eu un effet sur les réinscriptions en septembre 2018 dans ce club? Justifier.

ANNEXE 1



EXERCICE 3 (5 points)

Candidats n'ayant pas suivi l'enseignement de spécialité ES

Les parties A et B sont indépendantes.

PARTIE A

Tous les ans, au mois de septembre, Richard prélève 8,5 tonnes d'algues sur les plages de sa commune.

Au 1^{er} septembre 2018, il y avait 230 tonnes d'algues sur ces plages.

Tous les ans, entre le 1^{er} octobre et le 1^{er} septembre suivant, la quantité d'algues sur ces plages augmente de 4 %.

On note u_n la quantité en tonnes d'algues présente sur les plages au 1^{er} septembre de l'année 2018 + n . Ainsi, $u_0 = 230$.

1. Vérifier par le calcul que Richard disposera de 230,36 tonnes sur les plages au 1^{er} septembre 2019.

On admet que, pour tout $n \in \mathbb{N}$, $u_{n+1} = 1,04 u_n - 8,84$.

2. Soit (v_n) la suite définie par, pour tout $n \in \mathbb{N}$, $v_n = u_n - 221$.

- a) Démontrer que (v_n) est une suite géométrique de raison 1,04.

Préciser son premier terme.

- b) Exprimer, pour tout $n \in \mathbb{N}$, v_n en fonction de n .

- c) En déduire que, pour tout $n \in \mathbb{N}$, $u_n = 221 + 9 \times 1,04^n$.

3. La quantité d'algues présentes sur ces plages dépassera-t-elle un jour 250 tonnes ? Si oui, préciser au bout de combien d'années cette quantité sera atteinte.

PARTIE B

Pour développer son entreprise, à partir du 1^{er} septembre 2019, Richard a besoin de 10 % d'algues de plus que l'année précédente.

On rappelle qu'au 1^{er} septembre 2018, il disposait de 230 tonnes d'algues et qu'il en avait consommé 8,5 tonnes en septembre 2018. Dans cette nouvelle situation, il disposera de 230,36 tonnes d'algues au 1^{er} septembre 2019 et en utilisera 9,35 tonnes pendant ce mois.

Richard souhaite étudier la quantité d'algues sur les plages concernées pour les 16 prochaines années selon ce modèle.

Pour cela il rédige l'algorithme ci-contre.

1. Que représentent les variables A et B de l'algorithme ?
2. Dans le tableau en annexe 2, on a obtenu différentes valeurs de A et B de l'algorithme. Compléter les lignes du tableau pour les valeurs de $K = 1$ et $K = 2$.

Arrondir les résultats au centième.

3. Que peut conclure Richard pour 2034 ?

$A \leftarrow 230$
$B \leftarrow 8,5$
Pour K allant de 1 à 16
$A \leftarrow (A - B) \times 1,04$
$B \leftarrow B \times 1,1$
Fin Pour

ANNEXE 2

Valeurs de A et B obtenues à l'aide d'un tableur

<i>K</i>	<i>A</i>	<i>B</i>
	230	8,5
1		
2		
3	228,35	11,31
4	225,72	12,44
5	221,80	13,69
6	216,44	15,06
7	209,43	16,56
8	200,58	18,22
9	189,66	20,04
10	176,40	22,05
11	160,53	24,25
12	141,73	26,68
13	119,65	29,34
14	93,92	32,28
15	64,11	35,51
16	29,75	39,06

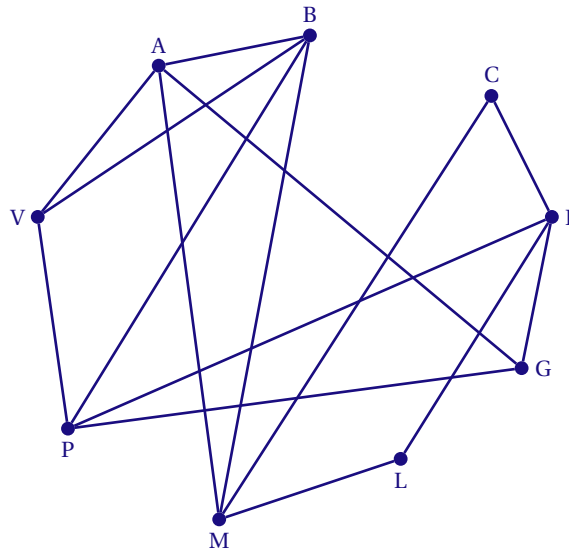
EXERCICE 3 (5 points)

Candidats de la série ES ayant suivi l'enseignement de spécialité

PARTIE A

Une compagnie aérienne a représenté à l'aide d'un graphe les différentes liaisons assurées par ses avions. Les sommets du graphe sont les initiales des aéroports desservis et les arêtes correspondent aux vols effectués par un avion de cette compagnie entre deux aéroports.

Par exemple, l'arête entre A et G signifie qu'un avion effectue le vol entre les aéroports A et G, en partant de A vers G ou en partant de G vers A.



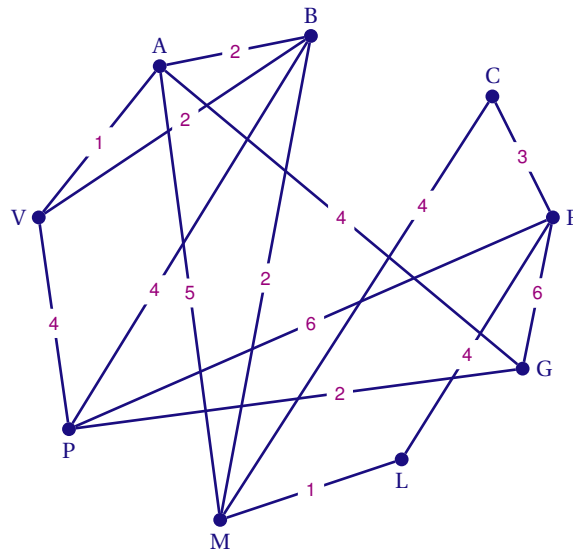
- Le graphe est-il complet?
Interpréter ce résultat dans le cadre de l'exercice.
- On note M la matrice d'adjacence du graphe ci-dessus en classant les sommets par ordre alphabétique. Compléter les deux lignes manquantes de la matrice M donnée en annexe 2.
- La compagnie souhaite qu'un avion partant de l'aéroport F effectue 3 vols avant d'arriver à l'aéroport B. À l'aide de la matrice M^3 donnée ci-après, déterminer le nombre de trajets possibles.

$$M^3 = \begin{pmatrix} 4 & 9 & 2 & 5 & 8 & 2 & 8 & 4 & 9 \\ 9 & 6 & 2 & 5 & 4 & 2 & 8 & 9 & 7 \\ 2 & 2 & 0 & 6 & 2 & 0 & 6 & 2 & 3 \\ 5 & 5 & 6 & 2 & 6 & 6 & 2 & 7 & 3 \\ 8 & 4 & 2 & 6 & 2 & 2 & 4 & 8 & 3 \\ 2 & 2 & 0 & 6 & 2 & 0 & 6 & 2 & 3 \\ 8 & 8 & 6 & 2 & 4 & 6 & 2 & 6 & 3 \\ 4 & 9 & 2 & 7 & 8 & 2 & 6 & 4 & 8 \\ 9 & 7 & 3 & 3 & 3 & 3 & 3 & 8 & 4 \end{pmatrix}$$

- L'entreprise souhaite qu'un même avion puisse parcourir successivement une fois et une seule chaque liaison.
 - Justifier qu'un avion peut le faire et préciser les aéroports de départ et d'arrivée possibles.
 - Lors de ce trajet, combien de fois cet avion doit-il se poser à l'aéroport P?
Expliquer la réponse.

PARTIE B

Sur le graphe ci-dessous sont indiqués les différents temps de vol en heure entre deux aéroports.



Un client souhaite utiliser une offre promotionnelle de cette compagnie pour voyager de l'aéroport V jusqu'à l'aéroport F. Combien d'heures de vol doit-il envisager au minimum? Préciser le trajet.

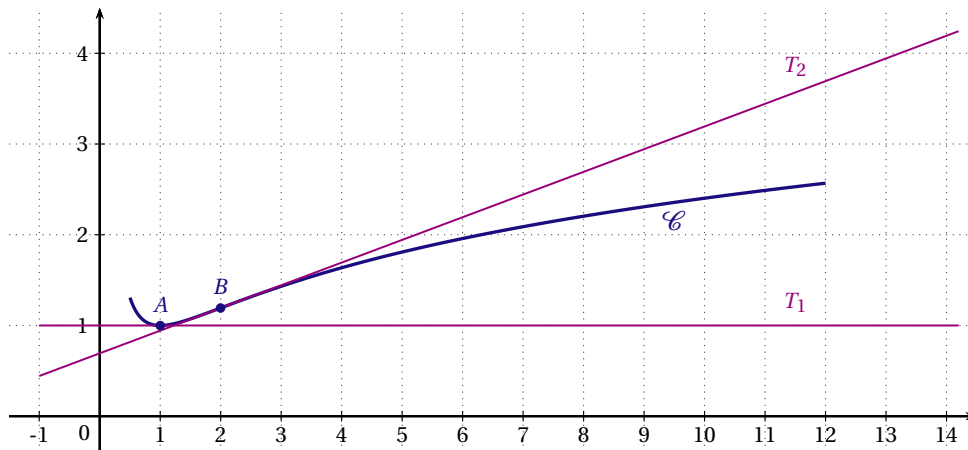
ANNEXE 2

$$M = \begin{pmatrix} 0 & 1 & 0 & 0 & 1 & 0 & 1 & 0 & 1 \\ \dots & \dots & \dots & \dots & \dots & \dots & \dots & \dots & \dots \\ \dots & \dots & \dots & \dots & \dots & \dots & \dots & \dots & \dots \\ 0 & 0 & 1 & 0 & 1 & 1 & 0 & 1 & 0 \\ 1 & 0 & 0 & 1 & 0 & 0 & 0 & 1 & 0 \\ 0 & 0 & 0 & 1 & 0 & 0 & 1 & 0 & 0 \\ 1 & 1 & 1 & 0 & 0 & 1 & 0 & 0 & 0 \\ 0 & 1 & 0 & 1 & 1 & 0 & 0 & 0 & 1 \\ 1 & 1 & 0 & 0 & 0 & 0 & 0 & 1 & 0 \end{pmatrix}$$

EXERCICE 4 (5 points)

Commun à tous les candidats

On a représenté ci-dessous la courbe \mathcal{C} représentative d'une fonction f définie et dérivable sur $[0,5; 12]$, la tangente T_1 à \mathcal{C} au point A d'abscisse 1 et la tangente T_2 à \mathcal{C} au point B d'abscisse 2. La tangente T_1 est parallèle à l'axe des abscisses.



1. Par lecture graphique :
 - a) Déterminer $f'(1)$.
 - b) Déterminer les éventuels points d'inflexion de \mathcal{C} .
 - c) Déterminer un encadrement de $\int_6^8 f(x) dx$ par deux entiers consécutifs.
2. On admet que la fonction f est définie sur $[0,5; 12]$ par : $f(x) = \ln(x) + \frac{1}{x}$.
 - a) Vérifier que, pour tout $x \in [0,5; 12]$, $f'(x) = \frac{x-1}{x^2}$.
 - b) Déterminer le signe de $f'(x)$ et en déduire le tableau de variations de f .
Si nécessaire, on arrondira à 0,1 les valeurs numériques.
3. À l'aide d'un logiciel de calcul formel, on a obtenu les résultats suivants que l'on pourra admettre.

Calcul formel	
1	$g(x) := (x-1)/x^2$ $g(x) = \frac{x-1}{x^2}$
2	Dérivée ($g(x)$) $\frac{x^2 - 2x(x-1)}{x^4}$
3	Simplifier(Dérivée($g(x)$)) $\frac{-x+2}{x^3}$

Déterminer par le calcul le plus grand intervalle sur lequel f est concave.

4. Soit F la fonction définie sur $[0,5; 12]$ par $F(x) = (x+1)\ln(x) - x$.
 - a) Vérifier que F est une primitive de f sur $[0,5; 12]$.
 - b) En déduire la valeur exacte puis la valeur arrondie au centième de la valeur moyenne de f sur l'intervalle $[0,5; 12]$.