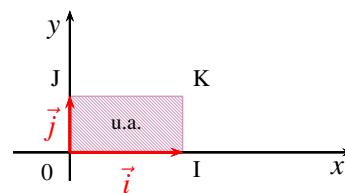


I INTÉGRALE ET AIRE

1 UNITÉ D'AIRE

Soit $(O; \vec{i}, \vec{j})$ un repère orthogonal du plan.

L'unité d'aire, notée u.a, est l'aire du rectangle unitaire OIJK avec I(0; 1), J(0; 1) et K(1; 1).



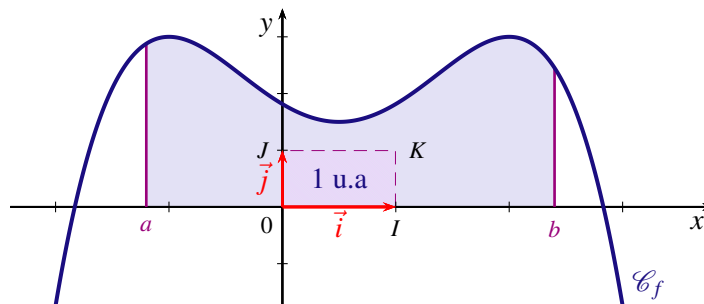
2 INTÉGRALE D'UNE FONCTION CONTINUE ET POSITIVE

DÉFINITION

Soit f une fonction définie, continue et positive sur un intervalle $[a; b]$ et \mathcal{C}_f sa courbe représentative dans le plan muni d'un repère orthogonal $(O; \vec{i}, \vec{j})$.

L'intégrale de f entre a et b est l'aire, exprimée en unités d'aire, du domaine \mathcal{D}_f compris entre la courbe \mathcal{C}_f , l'axe des abscisses et les droites d'équations $x = a$ et $x = b$

Ce nombre est noté : $\int_a^b f(x)dx$



REMARQUES

— $\int_a^b f(x)dx$ se lit « intégrale de a à b de $f(x)dx$ » ou encore « somme de a à b de $f(x)dx$ ».

— Les réels a et b sont appelés les bornes de l'intégrale $\int_a^b f(x)dx$.

— La variable x est dite « muette », elle n'intervient pas dans le résultat. C'est à dire qu'on peut la remplacer par n'importe quelle autre variable distincte des lettres a et b : $\int_a^b f(x)dx = \int_a^b f(t)dt = \int_a^b f(u)du$

— $\int_a^a f(x)dx = 0$, car le domaine \mathcal{D}_f est alors réduit à un segment.

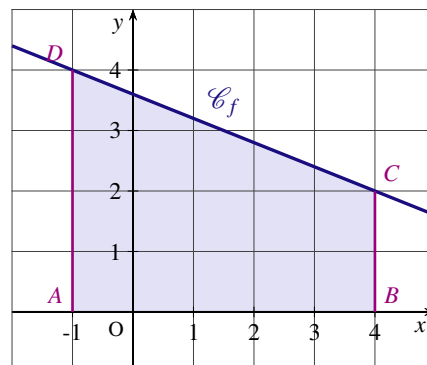
EXEMPLES

1. Calculons $\int_{-1}^4 (-0,4x + 3,6) dx$.

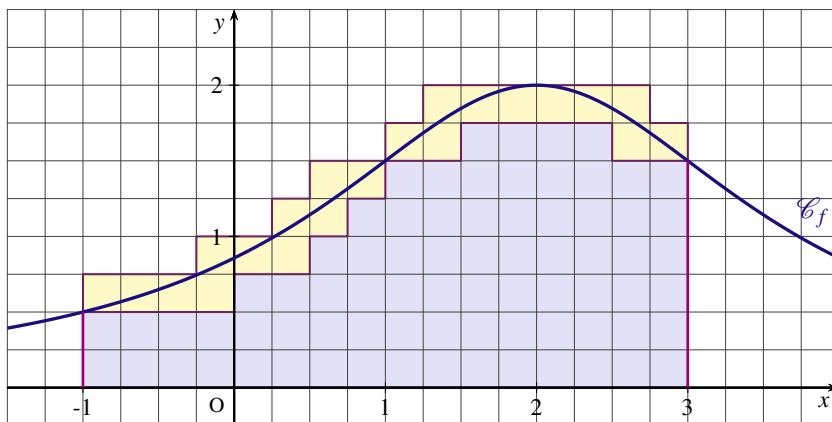
La fonction affine f définie pour tout réel x par $f(x) = -0,4x + 3,6$ est continue et positive sur l'intervalle $[-1; 4]$

L'intégrale $\int_{-1}^4 (-0,4x + 3,6) dx$ est égale à l'aire du trapèze ABCD.

$$\begin{aligned} \int_{-1}^4 (-0,4x + 3,6) dx &= \frac{(AD + BC) \times AB}{2} \\ &= \frac{(4 + 2) \times 5}{2} \\ &= 15 \end{aligned}$$



2. Soit f la fonction définie pour tout réel x par $f(x) = \frac{6}{x^2 - 4x + 7}$ dont la courbe \mathcal{C}_f est représentée ci-dessous. Déterminer un encadrement de l'intégrale $\int_{-1}^3 f(x)dx$.

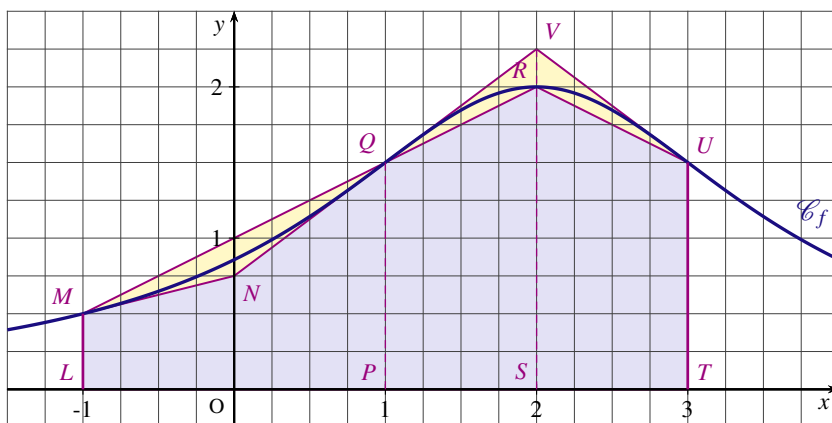


Sur l'intervalle $[-1; 3]$, la fonction f est continue et positive. L'intégrale $\int_{-1}^3 f(x)dx$ est égale à l'aire, en unités d'aire, du domaine \mathcal{D}_f compris entre la courbe \mathcal{C}_f , l'axe des abscisses et les droites d'équations $x = -1$ et $x = 3$.

On peut déterminer un encadrement de l'intégrale $\int_{-1}^3 f(x)dx$ à l'aide du quadrillage. D'où l'encadrement

$$\frac{75}{16} \leq \int_{-1}^3 f(x)dx \leq 6$$

Un encadrement plus précis est obtenu à partir de trapèzes. Les droites (MN) , (NV) et (VU) étant les tangentes respectives à la courbe \mathcal{C}_f aux points d'abscisses -1 , 1 et 3 .



L'aire du domaine \mathcal{D}_f est comprise entre la somme des aires des trapèzes $LMNO$, $NO PQ$, $PQRS$ et $RSTU$ et, la somme des aires des trapèzes $LMPQ$, $PQVS$ et $VSTU$. Soit

$$0,625 + 1,25 + 1,75 + 1,75 \leq \int_{-1}^3 f(x)dx \leq 2 + 1,875 + 1,875 \iff 5,375 \leq \int_{-1}^3 f(x)dx \leq 5,75$$

Remarque :

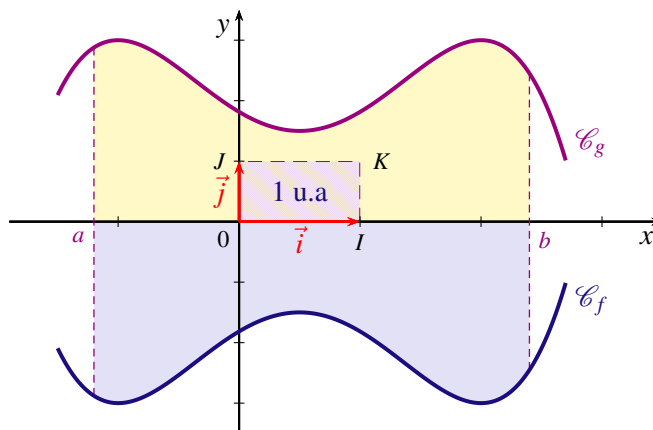
— À l'aide de la calculatrice, on trouve $\int_{-1}^3 \left(\frac{6}{x^2 - 4x + 7} \right) dx \approx 5,44$.

— À l'aide d'un logiciel de calcul formel, on obtient $\int_{-1}^3 \left(\frac{6}{x^2 - 4x + 7} \right) dx = \pi\sqrt{3}$.

3 INTÉGRALE D'UNE FONCTION CONTINUE ET NÉGATIVE

Si f est une fonction continue et négative sur un intervalle $[a; b]$ alors, la fonction g définie sur l'intervalle $[a; b]$ par $g = -f$ est une fonction continue et positive sur cet intervalle.

Par symétrie par rapport à l'axe des abscisses, l'aire du domaine \mathcal{D}_f compris entre la courbe \mathcal{C}_f , l'axe des abscisses et les droites d'équations $x = a$ et $x = b$ est égale à l'aire du domaine \mathcal{D}_g compris entre la courbe \mathcal{C}_g , l'axe des abscisses et les droites d'équations $x = a$ et $x = b$.



DÉFINITION

Soit f une fonction définie, continue et négative sur un intervalle $[a; b]$ et \mathcal{C}_f sa courbe représentative dans le plan muni d'un repère orthogonal $(O; \vec{i}, \vec{j})$.

L'intégrale de la fonction f entre a et b est égale à l'opposé de l'aire \mathcal{A} , exprimée en unités d'aire, du domaine \mathcal{D}_f compris entre la courbe \mathcal{C}_f , l'axe des abscisses et les droites d'équations $x = a$ et $x = b$:

$$\int_a^b f(x)dx = -\mathcal{A}$$

4 LIEN ENTRE INTÉGRALE ET DÉRIVÉE

Soit f une fonction continue sur un intervalle $[a; b]$. On peut définir une nouvelle fonction F qui à tout réel x de l'intervalle $[a; b]$, associe l'intégrale de f entre a et x : $F(x) = \int_a^x f(t)dt$

THÉORÈME (admis)

Soit f une fonction continue sur un intervalle $[a; b]$.

La fonction F définie sur $[a; b]$ par $F(x) = \int_a^x f(t)dt$ est dérivable sur $[a; b]$ et a pour dérivée f .

EXEMPLE

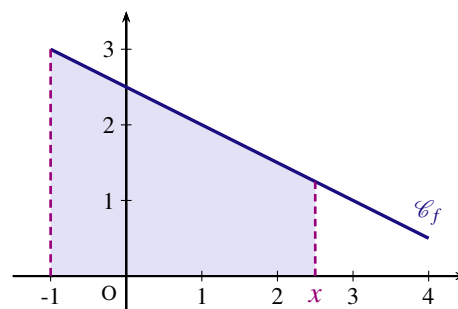
Soit f la fonction définie sur l'intervalle $[-1; 4]$ par $f(x) = -\frac{1}{2}x + \frac{5}{2}$.

Si x est un réel de l'intervalle $[-1; 4]$, la fonction F définie par

$F(x) = \int_{-1}^x f(t)dt$ est égale à l'aire du trapèze colorié.

On a donc $F(x) = \frac{(3 + (-0,5x + 2,5)) \times (x + 1)}{2} = -\frac{x^2}{4} + \frac{5x}{2} + \frac{11}{4}$

La fonction F est dérivable sur $[-1; 4]$ et $F'(x) = -\frac{x}{2} + \frac{5}{2} = f(x)$.



II PRIMITIVES D'UNE FONCTION CONTINUE

1 DÉFINITION

Soit f une fonction définie sur un intervalle I .
Une primitive de f sur I est une fonction F dérivable sur I et telle que pour tout réel x de I , $F'(x) = f(x)$.

EXEMPLE

f est la fonction définie sur \mathbb{R} par $f(x) = 5 - 3x$

Les fonctions F et G définies sur \mathbb{R} par $F(x) = -\frac{3}{2}x^2 + 5x$ et $G(x) = -\frac{3}{2}x^2 + 5x - \sqrt{2}$ sont des primitives de f sur \mathbb{R} .

De façon générale, toute fonction G définie sur \mathbb{R} par $G(x) = -\frac{3}{2}x^2 + 5x + c$, où c est un réel, est une primitive de f sur \mathbb{R} .

2 ENSEMBLE DES PRIMITIVES D'UNE FONCTION

PROPRIÉTÉ (admise)

Toute fonction f continue sur un intervalle I admet des primitives sur I .

THÉORÈME

Si F est une primitive de f sur un intervalle I , alors les primitives de f sur I sont les fonctions G définies pour tout réel x de I par $G(x) = F(x) + k$ où k est un réel.

* DÉMONSTRATION

— Soient F une primitive de la fonction f sur I et k est un réel.

Si pour tout réel x de I , G est la fonction définie par $G(x) = F(x) + k$, alors $G'(x) = F'(x) + 0 = f(x)$ donc G est aussi une primitive de f sur I .

— Soient G et F deux primitives de f sur I .

On considère la fonction H définie sur I par $H(x) = G(x) - F(x)$, alors H est dérivable sur I et

$$H'(x) = G'(x) - F'(x) = f(x) - f(x) = 0$$

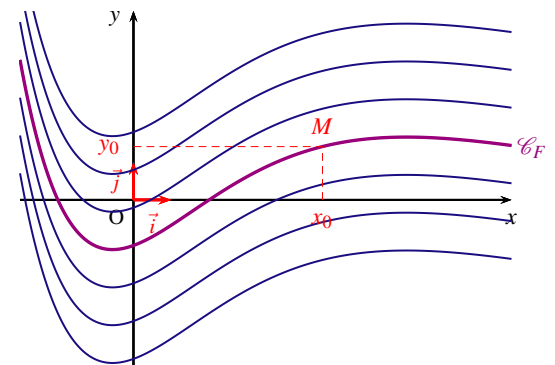
La dérivée H' est la fonction nulle sur I ce qui signifie que H est une fonction constante sur I .

Ainsi, pour tout réel x de I , $H(x) = k$ où C est un réel. Soit $G(x) - F(x) = C$ donc $G(x) = F(x) + k$.

INTERPRÉTATION GRAPHIQUE

Si on connaît la courbe \mathcal{C} représentative d'une primitive de f sur I , alors les courbes des primitives de f sur I se déduisent de \mathcal{C} par une translation de vecteur $k\vec{j}$ où k est un réel.

Un point $M(x_0; y_0)$ étant donné, il n'existe qu'une seule courbe \mathcal{C}_F de la famille passant par ce point.



3 PRIMITIVE VÉRIFIANT UNE CONDITION

Soit f une fonction admettant des primitives sur un intervalle I . Soit x_0 un réel de l'intervalle I et y_0 un réel quelconque.

Il existe une *unique* primitive F de f sur I telle que $F(x_0) = y_0$.

* DÉMONSTRATION

Si G est une primitive de f sur I , alors toute primitive F de f sur I est définie par $F(x) = G(x) + k$ avec k réel. La condition $F(x_0) = y_0$ s'écrit $G(x_0) + k = y_0$ d'où $k = y_0 - G(x_0)$.

Il existe donc une seule primitive F de f sur I telle que $F(x_0) = y_0$, définie par $F(x) = G(x) + y_0 - G(x_0)$.

III CALCUL DE PRIMITIVES

1 PRIMITIVES DES FONCTIONS USUELLES

f est définie sur I par ...	Une primitive F est donnée par ...	Validité
$f(x) = a$ (a est un réel)	$F(x) = ax$	sur \mathbb{R}
$f(x) = x$	$F(x) = \frac{1}{2}x^2$	sur \mathbb{R}
$f(x) = x^n$ (n est un entier naturel)	$F(x) = \frac{x^{n+1}}{n+1}$	sur \mathbb{R}
$f(x) = \frac{1}{x}$	$F(x) = \ln(x)$	sur $]0; +\infty[$
$f(x) = \frac{1}{x^n}$ (n entier, $n > 1$)	$F(x) = -\frac{1}{(n-1)x^{n-1}}$	sur $] -\infty; 0[$ ou sur $]0; +\infty[$
$f(x) = \frac{1}{\sqrt{x}}$	$F(x) = 2\sqrt{x}$	sur $]0; +\infty[$
$f(x) = e^x$	$F(x) = e^x$	sur $]0; +\infty[$

2 LINÉARITÉ

— Si F et G sont des primitives respectives des fonctions f et g sur un intervalle I , alors $F + G$ est une primitive de $f + g$ sur I .

— Si F est une primitive de la fonction f sur un intervalle I et α un réel, alors αF est une primitive de αf sur I .

* DÉMONSTRATION

Si F et G sont des primitives respectives des fonctions f et g sur I , alors $F + G$ et αF sont dérivables sur I .

— $(F + G)' = F' + G' = f + g$ donc $F + G$ est une primitive de $f + g$ sur I .

— $(\alpha F)' = \alpha F' = \alpha f$ donc αF est une primitive de αf sur I .

EXEMPLE

Soit f la fonction définie sur $]0; +\infty[$ par $f(x) = x^2 - \frac{3}{x}$.

La fonction u définie par $u(x) = x^2$ admet comme primitive la fonction U définie par $U(x) = \frac{x^3}{3}$.

Sur l'intervalle $]0; +\infty[$ la fonction $x \mapsto \frac{1}{x}$ admet pour primitive la fonction $x \mapsto \ln x$. Donc sur l'intervalle $]0; +\infty[$ la fonction v définie par $v(x) = -\frac{3}{x}$ admet comme primitive la fonction V définie par $V(x) = -3 \ln x$.

Donc la fonction $f = u + v$ admet comme primitive la fonction $F = U + V$ définie par $F(x) = \frac{x^3}{3} - 3 \ln x$.

3 PRIMITIVES DES FORMES USUELLES

Soit u une fonction dérivable sur un intervalle I et u' sa dérivée.

Fonction f	Une primitive F est donnée par...
$f = u'u$	$F = \frac{1}{2}u^2$
$f = u'u^n$ n entier, $n > 0$	$F = \frac{u^{n+1}}{n+1}$
$f = u'e^u$	$F = e^u$
$f = \frac{u'}{u^2}$ u ne s'annule pas sur I	$F = -\frac{1}{u}$
$f = \frac{u'}{u^n}$ (n entier, $n \geq 2$) u ne s'annule pas sur I	$F = -\frac{1}{(n-1)u^{n-1}}$

EXEMPLE

Déterminer la primitive F de la fonction f définie sur \mathbb{R} par $f(x) = xe^{1-x^2}$ telle que $F(1) = 0$.

Soit u la fonction définie pour tout réel x par $u(x) = 1 - x^2$ alors $u'(x) = -2x$.

On a : $f(x) = -\frac{1}{2} \times (-2x) \times e^{1-x^2}$ soit $f = -\frac{1}{2} \times u'e^u$.

Une primitive de f sur \mathbb{R} est la fonction F définie pour tout réel x , par $F(x) = -\frac{1}{2}e^{1-x^2} + c$ où c est un réel à déterminer.

Or $F(1) = 0 \Leftrightarrow -\frac{1}{2} + c = 0 \Leftrightarrow c = \frac{1}{2}$.

Ainsi, la primitive de la fonction f est la fonction définie sur \mathbb{R} par : $F(x) = -\frac{1}{2}e^{1-x^2} + \frac{1}{2}$.

IV INTÉGRALE D'UNE FONCTION CONTINUE

1 DÉFINITION

Soit f une fonction continue sur un intervalle $[a; b]$ et F une primitive de la fonction f sur $[a; b]$.
L'intégrale de f entre a à b est le nombre réel égal à $F(b) - F(a)$:

$$\int_a^b f(x)dx = F(b) - F(a)$$

REMARQUES

— La différence $F(b) - F(a)$ se note $\left[F(x) \right]_a^b$; ainsi $\int_a^b f(x)dx = \left[F(x) \right]_a^b = F(b) - F(a)$.

— Le choix de la primitive F n'influe pas sur la valeur de l'intégrale.

En effet, si G est une autre primitive de f sur I , il existe un réel k tel que $G(x) = F(x) + k$ d'où

$$G(b) - G(a) = (F(b) + k) - (F(a) + k) = F(b) - F(a)$$

— Si f est une fonction continue et positive sur un intervalle $[a; b]$ alors l'intégrale $\int_a^b f(x)dx = F(b) - F(a)$ est l'aire, exprimée en unité d'aire, du domaine compris entre la courbe \mathcal{C}_f , l'axe des abscisses et les droites d'équation $x = a$ et $x = b$.

EXEMPLE

$$\begin{aligned}\int_1^e \left(x - \frac{1}{x} + \frac{e}{x^2}\right) dx &= \left[\frac{x^2}{2} - \ln(x) - \frac{e}{x}\right]_1^e \\ &= \left(\frac{e^2}{2} - \ln(e) - \frac{e}{e}\right) - \left(\frac{1^2}{2} - \ln(1) - \frac{e}{1}\right) \\ &= \frac{e^2}{2} + e - \frac{5}{2}\end{aligned}$$

2 PREMIÈRES PROPRIÉTÉS

Soit f une fonction continue sur un intervalle I de \mathbb{R} . Pour tout réel a appartenant à I .

$$\int_a^a f(x) dx = 0$$

Preuve :

Soit F une primitive de f sur I .

$$\int_a^a f(x) dx = F(a) - F(a) = 0$$

Soit f une fonction continue sur un intervalle I de \mathbb{R} , a et b deux réels appartenant à I .

$$\int_a^b f(x) dx = - \int_b^a f(x) dx$$

Preuve :

Soit F une primitive de f sur I .

$$\int_a^b f(x) dx = F(b) - F(a) \quad \text{et} \quad \int_b^a f(x) dx = F(a) - F(b)$$

V PROPRIÉTÉS DE L'INTÉGRALE

1 POSITIVITÉ

Soit f une fonction continue sur un intervalle I , a et b deux réels appartenant à I .

Si $a \leq b$ et $f \geq 0$ sur l'intervalle $[a; b]$, alors $\int_a^b f(x) dx \geq 0$.

* DÉMONSTRATION

Soit F une primitive de f sur I . Pour tout réel x de l'intervalle I , $F'(x) = f(x)$.

Or $f \geq 0$ sur l'intervalle $[a; b]$ donc F est croissante sur $[a; b]$. Par conséquent, si $a \leq b$, alors $F(a) \leq F(b)$.

On en déduit que $F(b) - F(a) \geq 0$ et $\int_a^b f(x) dx \geq 0$.

Attention la réciproque est fautive :

Soit f la fonction définie sur \mathbb{R} par $f(x) = -x^2 + 3x + 1$

$$\begin{aligned}\int_{-2}^3 (-x^2 + 3x + 1) dx &= \left[-\frac{x^3}{3} + \frac{3}{2}x^2 + x\right]_{-2}^3 \\ &= \left(-9 + \frac{27}{2} + 3\right) - \left(\frac{8}{3} + 6 - 2\right) = \frac{5}{6}\end{aligned}$$

Ainsi $\int_{-2}^3 f(x) dx \geq 0$ mais $f(-1) = -3$.

On démontre de manière analogue la propriété suivante :

Soit f une fonction continue sur un intervalle I , a et b deux réels appartenant à I .

Si $a \leq b$ et $f \leq 0$ sur l'intervalle $[a; b]$, alors $\int_a^b f(x)dx \leq 0$.

2 LINÉARITÉ

Soit f et g deux fonctions continues sur un intervalle I de \mathbb{R} . Pour tous réels a et b appartenant à I , et pour tout réel α

$$\int_a^b (f(x) + g(x)) dx = \int_a^b f(x) dx + \int_a^b g(x) dx \quad \text{et} \quad \int_a^b \alpha f(x) dx = \alpha \int_a^b f(x) dx$$

* DÉMONSTRATION

1. Si F et G sont deux primitives respectives des fonctions f et g sur I , alors $F + G$ est une primitive sur I de la fonction $f + g$.

$$\begin{aligned} \int_a^b (f(x) + g(x)) dx &= (F(b) + G(b)) - (F(a) + G(a)) \\ &= (F(b) - F(a)) + (G(b) - G(a)) \\ &= \int_a^b f(x) dx + \int_a^b g(x) dx \end{aligned}$$

2. Soit F une primitive de f sur I et α un réel.

$$\begin{aligned} \int_a^b \alpha f(x) dx &= \alpha F(b) - \alpha F(a) \\ &= \alpha (F(b) - F(a)) \\ &= \alpha \int_a^b f(x) dx \end{aligned}$$

3 RELATION DE CHASLES

Soit f une fonction continue sur un intervalle I de \mathbb{R} . Pour tous réels a , b et c appartenant à I

$$\int_a^b f(x) dx = \int_a^c f(x) dx + \int_c^b f(x) dx$$

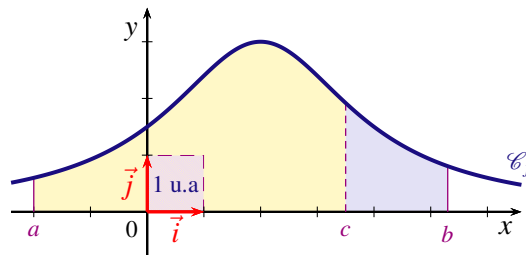
* DÉMONSTRATION

Soit F une primitive de f sur I . Pour tous réels a , b et c appartenant à I

$$\begin{aligned} \int_a^c f(x) dx + \int_c^b f(x) dx &= (F(c) - F(a)) + (F(b) - F(c)) \\ &= F(b) - F(a) \\ &= \int_a^b f(x) dx \end{aligned}$$

INTERPRÉTATION GRAPHIQUE :

Dans le cas où f est une fonction continue et positive sur $[a; b]$.
L'aire du domaine compris entre la courbe \mathcal{C}_f , l'axe des abscisses et les droites d'équations $x = a$ et $x = b$ est égale à la somme des aires du domaine compris entre la courbe \mathcal{C}_f , l'axe des abscisses et les droites d'équations $x = a$ et $x = c$ et du domaine compris entre la courbe \mathcal{C}_f , l'axe des abscisses et les droites d'équations $x = c$ et $x = b$.



4 ORDRE

Soient f et g deux fonctions continues sur un intervalle I , a et b deux réels appartenant à I tels que $a \leq b$.

Si pour tout réel x appartenant à $[a; b]$, $f(x) \leq g(x)$, alors $\int_a^b f(x)dx \leq \int_a^b g(x)dx$

* DÉMONSTRATION

Si pour tout réel x appartenant à $[a; b]$, $f(x) \leq g(x)$, alors $f(x) - g(x) \leq 0$. Comme f et g sont deux fonctions continues sur $[a; b]$, la fonction $f - g$ est continue sur $[a; b]$.

Par conséquent, si $a \leq b$ et $f - g \leq 0$ alors

$$\int_a^b (f - g)(x)dx \leq 0 \Leftrightarrow \int_a^b f(x)dx - \int_a^b g(x)dx \leq 0$$

Attention la réciproque est fautive :

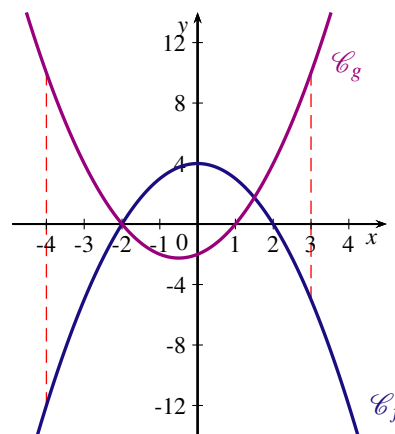
Considérons les fonctions f et g définies sur \mathbb{R} par $f(x) = 4 - x^2$ et $g(x) = x^2 + x - 2$.

$$\begin{aligned} \int_{-4}^3 (4 - x^2) dx &= \left[4x - \frac{x^3}{3} \right]_{-4}^3 \\ &= \left(12 - \frac{27}{3} \right) - \left(-16 + \frac{64}{3} \right) \\ &= -\frac{7}{3} \end{aligned}$$

et

$$\begin{aligned} \int_{-4}^3 (x^2 + x - 2) dx &= \left[\frac{x^3}{3} + \frac{x^2}{2} - 2x \right]_{-4}^3 \\ &= \left(\frac{27}{3} + \frac{9}{2} - 6 \right) - \left(-\frac{64}{3} + \frac{16}{2} + 8 \right) \\ &= \frac{77}{6} \end{aligned}$$

Ainsi, $\int_{-4}^3 f(x)dx \leq \int_{-4}^3 g(x)dx$ mais nous ne pouvons pas conclure que sur l'intervalle $[-4; 3]$, $f(x) \leq g(x)$ comme on peut le constater sur le graphique ci-contre.



VI INTÉGRALE ET MOYENNE

1 INÉGALITÉS DE LA MOYENNE

Soit f une fonction définie et continue sur un intervalle $[a; b]$ de \mathbb{R} ($a < b$). Soit m et M deux réels. Si pour tout réel x appartenant à l'intervalle $[a; b]$, $m \leq f(x) \leq M$, alors :

$$m \times (b - a) \leq \int_a^b f(x) dx \leq M \times (b - a)$$

* DÉMONSTRATION

Les fonctions définies sur $[a; b]$ par $x \mapsto m$ et $x \mapsto M$ sont constantes donc continues.

Si pour tout réel x appartenant à $[a; b]$ ($a < b$), $m \leq f(x) \leq M$, alors d'après la propriété de l'intégration d'une inégalité :

$$\begin{aligned} \int_a^b m \, dx &\leq \int_a^b f(x) dx \leq \int_a^b M \, dx \Leftrightarrow m \int_a^b dx \leq \int_a^b f(x) dx \leq M \int_a^b dx \\ &\Leftrightarrow m \times (b - a) \leq \int_a^b f(x) dx \leq M \times (b - a) \end{aligned}$$

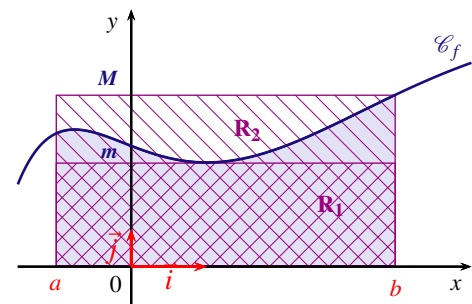
INTERPRÉTATION GRAPHIQUE :

Dans le cas où f est une fonction continue et positive sur $[a; b]$

L'aire du domaine compris entre la courbe \mathcal{C}_f , l'axe des abscisses et les droites d'équation $x = a$ et $x = b$ est comprise entre les aires des rectangles R_1 et R_2 :

R_1 de côtés m et $b - a$;

R_2 de côtés M et $b - a$.



2 VALEUR MOYENNE

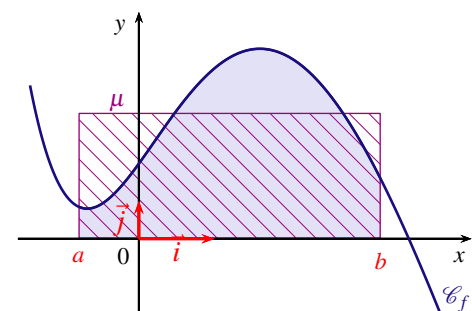
Soit f une fonction définie et continue sur un intervalle $[a; b]$ de \mathbb{R} ($a < b$).

On appelle valeur moyenne de f sur $[a; b]$ le réel $\mu = \frac{1}{b - a} \int_a^b f(x) dx$

INTERPRÉTATION GRAPHIQUE :

Dans le cas où f est une fonction continue et positive sur $[a; b]$

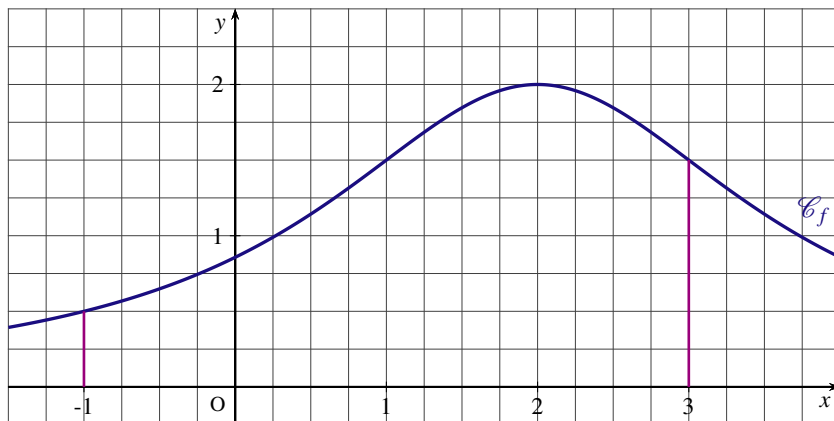
L'aire du domaine compris entre la courbe \mathcal{C}_f , l'axe des abscisses et les droites d'équation $x = a$ et $x = b$ est égale à l'aire du rectangle de côtés μ et $b - a$.



EXERCICE 1

1. La courbe \mathcal{C}_f est la représentation graphique d'une fonction f définie sur \mathbb{R} .

Déterminer un encadrement de l'intégrale $\int_{-1}^3 f(x)dx$.



2. La fonction f est définie pour tout réel x par $f(x) = \frac{6}{x^2 - 4x + 7}$.

À l'aide de la calculatrice, déterminer un encadrement au centième près, de l'intégrale $\int_{-1}^3 f(x)dx$.

EXERCICE 2

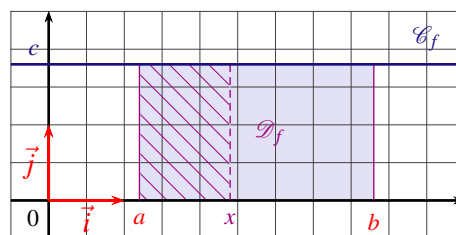
Le plan est muni d'un repère orthonormé $(O; \vec{i}, \vec{j})$ d'unité graphique 1 cm. a et b sont deux réels tels que $a < b$. Dans chaque cas, on considère une fonction f définie et positive sur l'intervalle $[a; b]$.

\mathcal{C}_f désigne la courbe représentative de la fonction f dans le repère $(O; \vec{i}, \vec{j})$ et \mathcal{D}_f le domaine compris entre la courbe \mathcal{C}_f , l'axe des abscisses et les droites d'équation $x = a$ et $x = b$.

FONCTION CONSTANTE :

Soit c un réel positif. f est la fonction définie sur \mathbb{R} par $f(x) = c$.

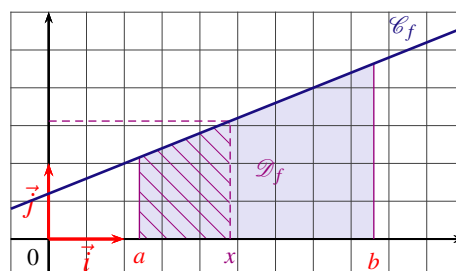
1. Exprimer en fonction de a et de b l'aire en cm^2 du domaine \mathcal{D}_f .
2. On considère la fonction F qui à tout réel x de l'intervalle $[a; b]$, associe l'aire \mathcal{A}_x du domaine hachuré.
 - a) Donner une expression de F en fonction de x .
 - b) Calculer $F'(x)$ où F' est la dérivée de la fonction F sur $[a; b]$
 - c) Calculer $F(b) - F(a)$. Que constate-t-on ?



FONCTION AFFINE :

f est une fonction affine définie sur \mathbb{R} par $f(x) = mx + p$ où m et p sont des réels fixés avec m non nul. f est supposée positive sur $[a; b]$.

1. Exprimer en fonction de a et de b l'aire en cm^2 du domaine \mathcal{D}_f .
2. On considère la fonction F qui à tout réel x de l'intervalle $[a; b]$, associe l'aire \mathcal{A}_x du domaine hachuré.
 - a) Donner une expression de F en fonction de x .
 - b) Calculer $F'(x)$ où F' est la dérivée de la fonction F sur $[a; b]$
 - c) Calculer $F(b) - F(a)$. Que constate-t-on ?



EXERCICE 3

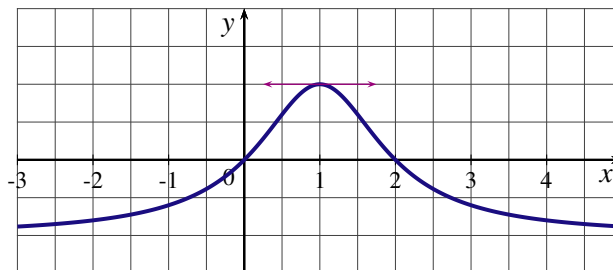
- Soit f et g les fonctions définies sur \mathbb{R} par $f(x) = -x^2 + 3x - 1$ et $g(x) = -2x + 3$.
Vérifier que g est la dérivée de f . Trouver d'autres fonctions ayant g pour dérivée.
- Dans chacun des cas suivants, trouver une fonction F ayant pour dérivée la fonction f sur l'intervalle I .
 - $f(x) = 3x - 2$ ($I = \mathbb{R}$)
 - $f(x) = 2x^2 + x - 1$ ($I = \mathbb{R}$)
 - $f(x) = x^3$ ($I = \mathbb{R}$)
 - $f(x) = \frac{3}{x^2}$ ($I =]0; +\infty[$)
 - $f(x) = \frac{2}{x}$ ($I =]0; +\infty[$)
 - $f(x) = e^{0,5x}$ ($I = \mathbb{R}$)

EXERCICE 4

Soit F et G les fonctions définies sur $] -1; +\infty[$ par : $F(x) = \frac{x^2 + x + 1}{x + 1}$ et $G(x) = x - 2 + \frac{1}{x + 1}$
Montrer que F et G sont deux primitives sur $] -1; +\infty[$ d'une même fonction f que l'on précisera.

EXERCICE 5

Une primitive sur \mathbb{R} d'une fonction f est définie par $F(x) = \frac{2}{x^2 - 2x + 2}$. On a tracé ci-dessous, la courbe représentative d'une autre primitive G de f .



- Donner l'expression de $G(x)$.
- Déterminer $f(1)$.

EXERCICE 6

Dans chaque cas, trouver une primitive F de la fonction f .

- f est définie sur \mathbb{R} par $f(x) = x^2 - 3x + \frac{1}{2}$.
- f est définie sur $]0; +\infty[$ par $f(x) = 2x^3 - 1 - \frac{1}{x^2}$.
- f est définie sur $]0; +\infty[$ par $f(x) = \frac{x}{2} - \frac{2}{x}$.
- f est définie sur $]0; +\infty[$ par $f(x) = \frac{2}{x^2} - \frac{x}{2} + \frac{2}{3x}$.
- f est définie sur \mathbb{R} par $f(x) = 2e^{-x}$.

EXERCICE 7

Dans chacun des cas suivants, calculer la primitive F de la fonction f qui vérifie la condition donnée.

- f est définie sur \mathbb{R} par $f(x) = 3x^2 + 2x - 1$ et $F(-2) = 0$.
- f est définie sur $]0; +\infty[$ par $f(x) = 1 - \frac{1}{x} - \frac{1}{x^2}$ et $F(1) = -1$.
- f est définie sur \mathbb{R} par $f(x) = (2x - 1)^2$ et $F\left(-\frac{1}{2}\right) = 0$.

4. f est définie sur \mathbb{R} par $f(x) = 1 - \frac{e^{2x}}{2}$ et $F(0) = -\frac{1}{2}$.
5. f est définie sur \mathbb{R} par $f(x) = \frac{x}{(x^2 + 1)^2}$ et $F(-1) = \frac{1}{4}$.

EXERCICE 8

Calculer la valeur exacte de chacune des intégrales suivantes :

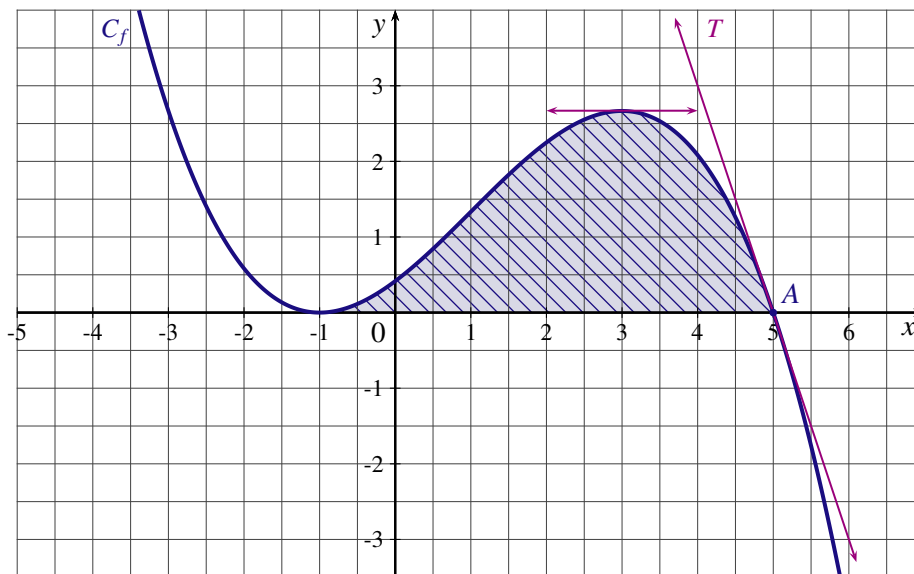
- $A = \int_{-1}^2 (x^2 - 3x + 1) dx$
- $B = \int_2^6 \left(\frac{x^2}{2} - \frac{2}{x^2} - 1 \right) dx$
- $C = \int_{-2}^1 2e^{2x+1} dx$
- $D = \int_0^{\ln 2} 2e^x \times (e^x + 1) dx$
- $E = \int_{\frac{1}{2}}^2 \frac{\ln x}{x} dx$

EXERCICE 9

- Calculer l'intégrale $\int_{-2}^2 e^x - e^{-x} dx$.
- Peut-on en déduire que la fonction f définie pour tout réel x par $f(x) = e^x - e^{-x}$ est constante sur l'intervalle $[-2; 2]$?

EXERCICE 10

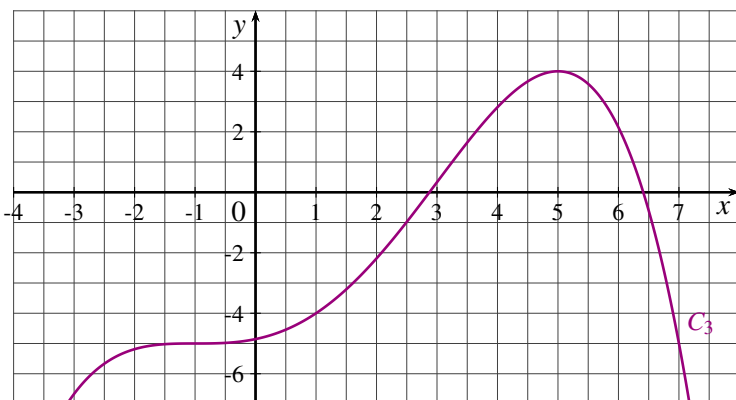
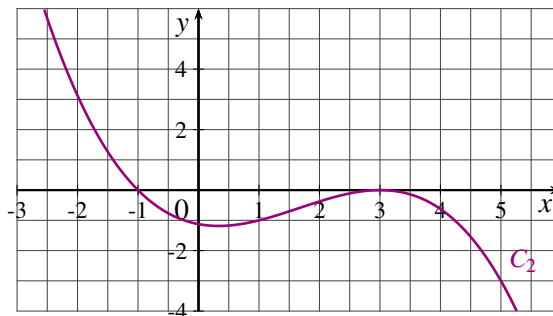
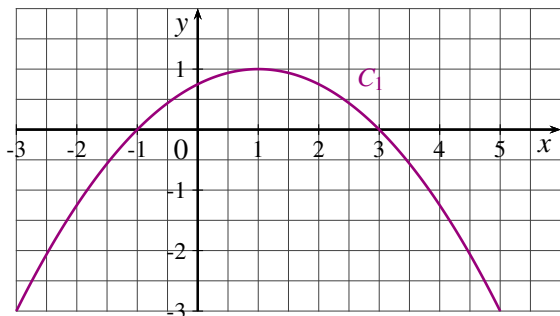
La courbe \mathcal{C}_f tracée ci-dessous est la représentation graphique d'une fonction f définie et dérivable sur \mathbb{R} .
La tangente T à la courbe \mathcal{C}_f au point A passe par le point de coordonnées $(4; 3)$.
On note f' la dérivée de la fonction f et F une primitive de la fonction f .



- Déterminer $f'(3)$ et $f'(5)$.
- Donner le tableau de variations de la fonction F .
- Donner un encadrement de l'intégrale $\int_{-1}^5 f(x) dx$.

4. Une des trois courbes ci-dessous est la représentation graphique de la fonction f' et une autre celle de la fonction F .

a) Déterminer la courbe associée à la fonction f' et celle qui est associée à la fonction F .

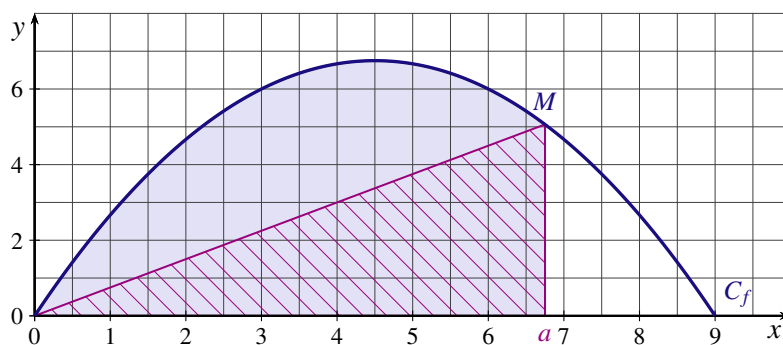


b) En déduire la valeur exacte de l'aire du domaine colorié.

c) La courbe représentative de la fonction F admet-elle des points d'inflexion ?

EXERCICE 11

Soit f la fonction définie sur l'intervalle $[0;9]$ par $f(x) = 3x - \frac{x^2}{3}$ et \mathcal{C}_f sa courbe représentative dans le plan muni d'un repère orthogonal.



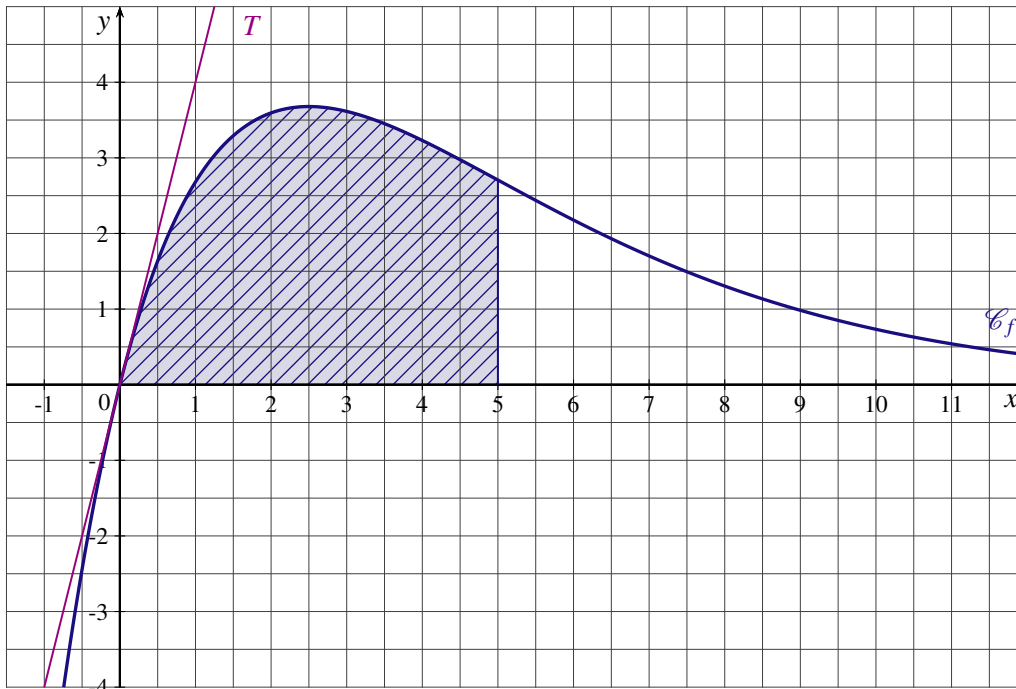
L'objet de cet exercice est de déterminer l'abscisse a du point M de la parabole \mathcal{C}_f telle que l'aire du triangle hachuré soit égale à la moitié de l'aire du domaine délimité par la courbe \mathcal{C}_f , l'axe des abscisses et les droites d'équation $x = 0$ et $x = a$.

1. Quelle est l'ordonnée du point M de la parabole \mathcal{C}_f d'abscisse a ? En déduire l'aire T en fonction de a du triangle hachuré.
2. Exprimer l'aire A en fonction de a du domaine délimité par la courbe \mathcal{C}_f , l'axe des abscisses et les droites d'équation $x = 0$ et $x = a$.
3. Déterminer a pour que $A = 2T$.

EXERCICE 12

La courbe \mathcal{C}_f tracée ci-dessous dans le plan muni d'un repère orthogonal est la courbe représentative d'une fonction f définie et dérivable sur \mathbb{R} .

La droite T est tangente à la courbe \mathcal{C}_f au point d'abscisse 0.



PARTIE A - Lecture graphique

- On désigne par f' la fonction dérivée de la fonction f . Par lecture graphique, déterminer $f'(0)$.
- Soit F une primitive de f . Pour chacune des propositions suivantes, indiquer si elle est vraie ou fausse et justifier la réponse.

PROPOSITION A : Sur l'intervalle $[5; +\infty[$, la fonction F est croissante.

PROPOSITION B : $F(-1) \leq F(0)$.

PROPOSITION C : $12 \leq F(5) - F(0) \leq 18$.

PARTIE B - Calcul d'aire

La fonction f est définie pour tout réel x par $f(x) = 4xe^{-0,4x}$.

- On cherche une primitive F de la fonction f de la forme $F(x) = (ax + b)e^{-0,4x}$ avec a et b deux nombres réels.
 - Montrer que a et b sont solutions du système d'équations suivant :
$$\begin{cases} -0,4a = 4 \\ a - 0,4b = 0 \end{cases}$$
 - Calculer a et b et donner l'expression de $F(x)$.
- On note A l'aire, exprimée en unité d'aire, du domaine colorié sur le graphique. Déterminer la valeur exacte de A .

EXERCICE 13

Soit f une fonction définie et dérivable sur l'intervalle $]0; +\infty[$. On sait que $f(2) = -4$ et que le signe de la fonction f est donné par le tableau suivant :

x	0	4	$+\infty$
signe de $f(x)$		-	0
			+

PARTIE A

1. Soit F la primitive de la fonction f sur l'intervalle $]0; +\infty[$ telle que $F(4) = \frac{1}{2}$.

On note \mathcal{C} la courbe représentative de la fonction F .

- Donner le tableau de variations de la fonction F .
- On suppose que la courbe \mathcal{C} passe par le point $A(2;3)$.

Donner une équation de la tangente à la courbe \mathcal{C} au point A .

PARTIE B

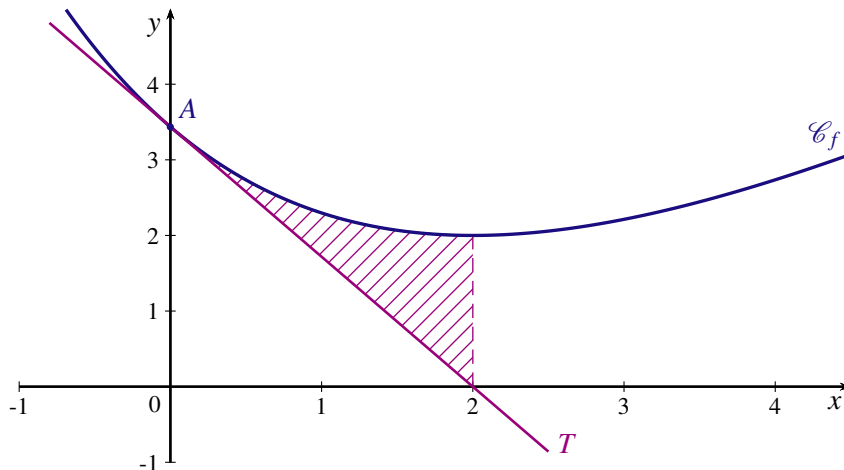
f est la fonction définie sur l'intervalle $]0; +\infty[$ par $f(x) = 1 - \frac{12}{x^2} - \frac{16}{x^3}$

- Calculer la primitive F de la fonction f sur l'intervalle $]0; +\infty[$ telle que $F(4) = \frac{1}{2}$.
 - Vérifier que la tangente à la courbe représentative de la fonction F au point d'abscisse 2 a pour équation $y = -4x + 11$.
- Étudier la convexité de la fonction F

EXERCICE 14

On considère la fonction f définie sur \mathbb{R} par $f(x) = 2e^{1-0,5x} + x - 2$.

On note \mathcal{C}_f la courbe représentative de f dans un repère orthogonal du plan. (Unités graphiques : 2cm sur l'axe des abscisses et 1cm sur l'axe des ordonnées)



- Calculer $f'(x)$ où f' est la fonction dérivée de f , puis étudier son signe.
 - En déduire le tableau de variation de la fonction f .
- Déterminer une équation de la tangente T à la courbe \mathcal{C}_f au point d'abscisse 0.
- Étudier la convexité de la fonction f .
 - En déduire la position relative de la tangente T par rapport à la courbe \mathcal{C}_f .
- Déterminer la valeur exacte de l'aire, exprimée en unités d'aire, du domaine limité par \mathcal{C}_f , T l'axe des ordonnées et la droite d'équation $x = 2$.
Donner une valeur approchée arrondie au centième près de cette aire en cm^2 .

EXERCICE 15

(D'après sujet bac Polynésie septembre 2015)

Étude de la répartition des salaires dans deux entreprises

Un cabinet d'audit a été chargé d'étudier la répartition des salaires dans deux filiales d'une entreprise, appelées A et B. Pour l'étude, les salaires sont classés par ordre croissant.

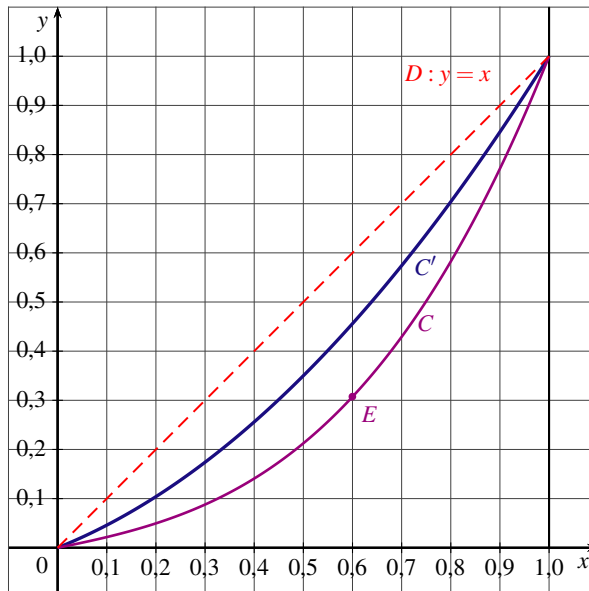
Le cabinet d'audit a modélisé la répartition de salaires par la fonction u pour la filiale A et par la fonction v pour la filiale B.

Les fonctions u et v sont définies sur l'intervalle $[0; 1]$ par :

$$u(x) = 0,6x^2 + 0,4x \text{ et}$$

$$v(x) = 0,7x^3 + 0,1x^2 + 0,2x.$$

On a tracé ci-contre les courbes représentatives C et C' des fonctions u et v .



- Déterminer la courbe représentative de la fonction u en justifiant la réponse.
- Lorsque x représente un pourcentage de salariés, $u(x)$ et $v(x)$ représentent le pourcentage de la masse salariale que se partagent ces salariés dans leurs filiales respectives.

Exemple : pour la courbe C , le point $E(0,60; 0,3072)$ signifie que 60 % des salariés ayant les plus bas salaires se partagent 30,72 % de la masse salariale.

- Calculer le pourcentage de la masse salariale que se répartissent les 50 % des salariés de la filiale A ayant les plus bas salaires.
 - Pour les 50 % des salariés ayant les plus bas salaires, laquelle des filiales, A ou B, distribue la plus grande part de la masse salariale ?
 - Quelle filiale paraît avoir une distribution des salaires la plus inégalitaire ?
- Pour mesurer ces inégalités de salaires, on définit le coefficient de Gini associé à une fonction f modélisant la répartition des salaires, rangés en ordre croissant, par la formule :

$$c_f = 2 \left(\frac{1}{2} - \int_0^1 f(x) dx \right).$$

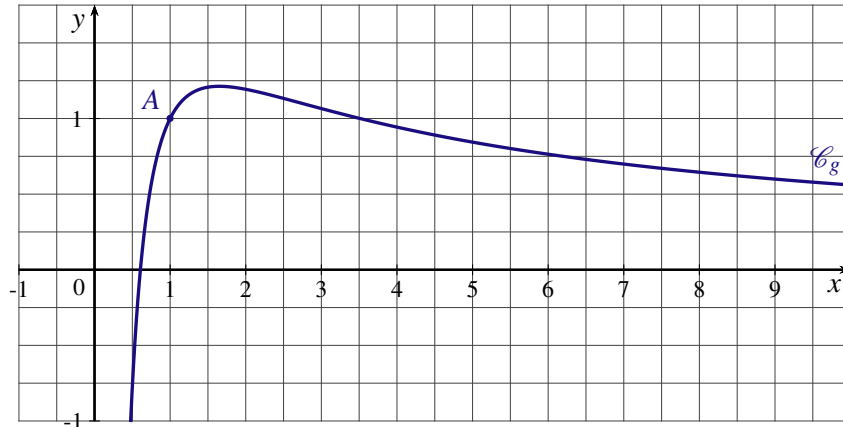
- Montrer que $c_u = 0,2$.
- En observant que $\frac{c_v}{2} = \int_0^1 x dx - \int_0^1 v(x) dx$, donner une interprétation graphique de $\frac{c_v}{2}$ en termes d'aires.
- En déduire que c_v est compris entre 0 et 1.
- Justifier l'inégalité $c_u \leq c_v$.

EXERCICE 16

PARTIE A - Étude d'une fonction

Soit f la fonction définie sur l'intervalle $]0 ; +\infty[$ par $f(x) = \frac{2\ln(x) + 1}{x}$.

On donne ci-dessous sa courbe représentative \mathcal{C}_f dans un repère orthogonal.



1. a) Calculer $f'(x)$.
b) Étudier le signe de $f'(x)$ et en déduire le tableau de variations de la fonction f .
2. Déterminer une équation de la tangente T à la courbe \mathcal{C}_f au point A d'abscisse 1.
3. Montrer que, sur l'intervalle $]0 ; +\infty[$, la courbe \mathcal{C}_f admet un unique point d'inflexion dont on précisera l'abscisse.
4. a) Déterminer une primitive F de la fonction f sur l'intervalle $]0 ; +\infty[$.
On pourra remarquer que $f(x) = 2 \times \frac{1}{x} \times \ln(x) + \frac{1}{x}$.
b) Soit $I = \frac{1}{4} \int_1^5 f(x) dx$. Déterminer la valeur exacte de I , puis en donner une valeur approchée au centième près.

PARTIE B - Application économique

Dans cette partie, on pourra utiliser certains résultats de la partie B.

Une entreprise de sous-traitance fabrique des pièces pour l'industrie automobile. Sa production pour ce type de pièces varie entre 1000 et 5000 pièces par semaine, selon la demande.

On suppose que toutes les pièces produites sont vendues.

Le bénéfice unitaire, en fonction du nombre de pièces produites par semaine, peut être modélisé par la fonction f définie dans la partie B, avec x exprimé en milliers de pièces et $f(x)$ exprimé en euros.

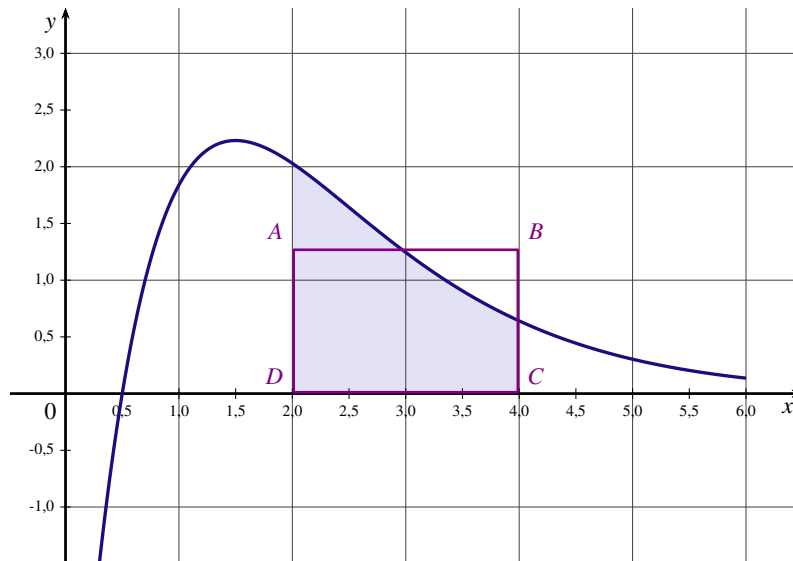
1. Déterminer, au centime près, la valeur moyenne du bénéfice unitaire pour une production hebdomadaire comprise entre 1000 et 5000 pièces.
2. *Dans cette question, la réponse sera soigneusement justifiée. Toute trace de recherche, même incomplète, ou d'initiative non fructueuse, sera prise en compte dans l'évaluation.*

Pour quelle(s) production(s), arrondie(s) à l'unité près, obtient-on un bénéfice unitaire égal à 1,05 € ?

EXERCICE 17

(D'après sujet bac Antilles Guyane 2016)

La courbe ci-dessous est la courbe représentative d'une fonction f définie et dérivable sur l'intervalle $[0;6]$. $ABCD$ est un rectangle, le point D a pour coordonnées $(2;0)$ et le point C a pour coordonnées $(4;0)$.



PARTIE A

Dans cette partie A, les réponses seront données à partir d'une lecture graphique.

1. Résoudre graphiquement l'inéquation $f(x) > 0$.
2. Avec la précision permise par le graphique, donner une valeur approchée du maximum de la fonction f sur l'intervalle $[0;6]$.
3. Quel semble être le signe de $f'(x)$ sur l'intervalle $[2;6]$? Justifier.
4. Pour quelle(s) raison(s) peut-on penser que la courbe admet un point d'inflexion?
5. Donner un encadrement par deux entiers consécutifs de $\int_2^4 f(x)dx$.

PARTIE B

La fonction f est la fonction définie sur l'intervalle $[0;6]$ par $f(x) = (10x - 5)e^{-x}$.

Un logiciel de calcul formel a donné les résultats suivants (on ne demande pas de les justifier) :

$$f'(x) = (-10x + 15)e^{-x} \quad \text{et} \quad f''(x) = (10x - 25)e^{-x}.$$

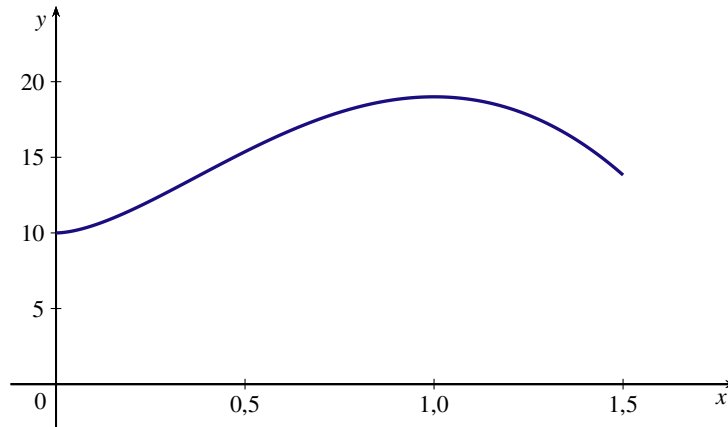
1. Dresser le tableau de variation de f en précisant la valeur de l'extremum et les valeurs aux bornes de l'ensemble de définition.
2. Étudier la convexité de f sur l'intervalle $[0;6]$.
3. Montrer que la fonction F définie sur l'intervalle $[0;6]$ par $F(x) = (-10x - 5)e^{-x}$ est une primitive de f sur l'intervalle $[0;6]$.
4. En déduire la valeur exacte puis une valeur approchée au centième de $\int_2^4 f(x)dx$.
5. On souhaiterait que l'aire du rectangle $ABCD$ soit égale à l'aire du domaine grisé sur la figure. Déterminer, à 0,01 près, la hauteur AD de ce rectangle.

EXERCICE 18

(D'après sujet bac Amérique du Nord 2016)

PARTIE A : Étude d'une fonction

On considère la fonction f définie sur l'intervalle $]0; 1,5]$ par $f(x) = 9x^2(1 - 2\ln x) + 10$.
La courbe représentative de f est donnée ci-dessous :



1. a) Montrer que $f'(x) = -36x \ln x$ où f' désigne la fonction dérivée de la fonction f sur l'intervalle $]0; 1,5]$.
b) Étudier le signe de $f'(x)$ sur l'intervalle $]0; 1,5]$.
c) Dédire de la question précédente les variations de la fonction f sur l'intervalle $]0; 1,5]$.
2. On admet que $f''(x) = -36 \ln x - 36$ où f'' désigne la dérivée seconde de la fonction f sur l'intervalle $]0; 1,5]$.
Montrer que la courbe représentative de la fonction f admet un point d'inflexion dont l'abscisse est e^{-1} .
3. Soit F la fonction définie sur l'intervalle $]0; 1,5]$ par $F(x) = 10x + 5x^3 - 6x^3 \ln x$.
 - a) Montrer que F est une primitive de la fonction f sur $]0; 1,5]$.
 - b) Calculer $\int_1^{1,5} f(x) dx$.
On donnera le résultat arrondi au centième.

PARTIE B : Application économique

Dans cette partie, toute trace de recherche, même incomplète, sera prise en compte dans l'évaluation.

Une société est cotée en bourse depuis un an et demi.

Le prix de l'action depuis un an et demi est modélisé par la fonction f définie dans la partie A, où x représente le nombre d'années écoulées depuis l'introduction en bourse et $f(x)$ représente le prix de l'action, exprimé en euros.

Pour chacune des propositions suivantes, indiquer si la proposition est vraie ou fausse en justifiant la réponse.

PROPOSITION 1 :

« Sur la période des six derniers mois, l'action a perdu plus d'un quart de sa valeur. »

PROPOSITION 2 :

« Sur la période des six derniers mois, la valeur moyenne de l'action a été inférieure à 17 €. »