

La recherche du meilleur itinéraire que ce soit en distance, en temps ou en coût d'un point à un autre peut être modélisée par la recherche du plus court chemin dans un graphe.

Dans ce paragraphe, on s'intéresse à la recherche d'un plus court chemin dans un graphe entre deux sommets donnés.

I GRAPHE PONDÉRÉ

1 DÉFINITION

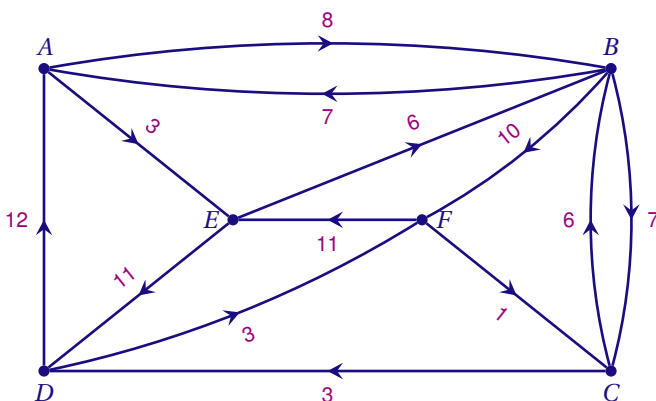
On appelle *graphe pondéré*, un graphe (orienté ou non) dont les arêtes ont été affectées d'un nombre appelé poids (ou coût).

Par analogie avec la matrice d'adjacence, on peut définir la matrice des poids $P(a_{i,j})$ du graphe, dont les coefficients $a_{i,j}$ correspondent aux poids des arêtes (ou des arcs dans le cas d'un graphe orienté) :

$$a_{i,j} = \begin{cases} 0 & \text{si } i = j \\ \infty & \text{s'il n'existe pas d'arêtes (ou d'arc) entre les sommets } x_i \text{ et } x_j \\ p_{ij} & \text{où } p_{ij} \text{ est le poids de l'arête (ou de l'arc) entre les sommets } x_i \text{ et } x_j \end{cases}$$

On utilise le symbole ∞ pour indiquer qu'il n'y a pas d'arêtes entre deux sommets.

EXEMPLE



Les sommets du graphe étant rangés dans l'ordre alphabétique :

$$P = \begin{pmatrix} 0 & 8 & \infty & \infty & 3 & \infty \\ 7 & 0 & 7 & \infty & \infty & 10 \\ \infty & 6 & 0 & 3 & \infty & \infty \\ 11 & \infty & \infty & 0 & \infty & 3 \\ \infty & 6 & \infty & 11 & 0 & \infty \\ \infty & \infty & 1 & \infty & 12 & 0 \end{pmatrix}$$

2 LONGUEUR D'UN CHEMIN

Soit $C(x,y)$ un chemin (ou une chaîne) dans un graphe pondéré G du sommet x vers le sommet y . La longueur de ce chemin est égale à la somme des poids de chacun arcs (ou de chacune des arêtes) qui le constituent.

REMARQUE

Cette définition généralise la définition de la longueur d'une chaîne dans un graphe non pondéré, il suffit d'attribuer un poids égal à 1 à chaque arête du graphe.

Dans l'exemple précédent, la longueur du chemin $AEBF$ est 19.

Si on souhaite déterminer le plus court chemin du sommet A au sommet F, on peut essayer d'énumérer tous les chemins ABF , $AEBF$, $AEDF$, $ABCDF$, $AEBCDF$ et calculer leurs longueurs. Mais avec un graphe de taille plus importante, ceci risque de devenir rapidement impossible.

Pour résoudre ce problème, on fait appel à des algorithmes.

En terminale ES, on n'étudie que le cas particulier où **les poids de tous les arcs sont des réels positifs**.

II ALGORITHME DE DIJKSTRA

E. W. Dijkstra (1930-2002) a proposé en 1959 un algorithme qui permet de calculer le plus court chemin entre un sommet particulier et tous les autres dans un graphe pondéré dont tous les poids sont positifs.

L'algorithme comporte une phase d'initialisation. À chaque sommet on attribue un poids qui vaut 0 pour le sommet de départ et infini pour les autres sommets.

Le traitement de l'algorithme consiste à examiner les sommets les uns après les autres et à sélectionner le sommet x auquel on a affecté la plus petite distance du sommet de départ jusqu'à x .

On recommence tant qu'il reste des sommets à sélectionner.

Soit G un graphe *connexe* dont les arêtes sont pondérées par des nombres *positifs*.

NOTATIONS :

S la liste des sommets du graphe

s_0 le sommet du graphe à partir duquel on veut déterminer les plus courts chemins aux autres sommets

$l(x,y)$ le poids de l'arête entre deux sommets x et y

$\delta_s(x)$ la longueur d'un chemin du sommets s_0 au sommet x

$V^+(x)$ la liste des successeurs du sommet x

$p(x)$ le prédécesseur du sommet x

X liste des sommets restant à traiter.

E liste des sommets déjà traités.

INITIALISATION :

POUR CHAQUE $x \in S$ FAIRE $\delta_s(x) = \infty$

On attribue un poids ∞ à chacun des sommets x

$\delta_s(s_0) = 0$

Le poids du sommet s_0 est nul

$X = S$

La liste des sommets restant à traiter est initialisée à S

$E = \emptyset$

La liste des sommets déjà traités vide

TRAITEMENT :

TANT_QUE $X \neq \emptyset$ FAIRE

Tant que la liste des sommets restant à traiter n'est pas vide

 Sélectionner dans la liste X le sommet x avec $\delta_s(x)$ minimum

 Retirer le sommet x de la liste X

 Ajouter le sommet x à la liste E

 POUR CHAQUE $y \in V^+(x) \cap X$ FAIRE

On examine tous les successeurs y du sommet x qui ne sont pas traités

 SI $\delta_s(y) > \delta_s(x) + l(x,y)$ ALORS

$\delta_s(y)$ prend la valeur $\delta_s(x) + l(x,y)$

La distance du sommet s_0 au sommet y est minimale

$p(y) = x$

le sommet x est le prédécesseur du sommet y

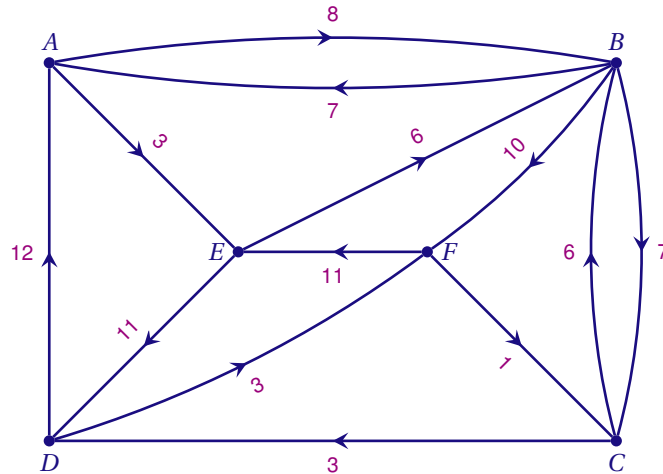
 FIN SI

 FIN POUR

FIN TANT_QUE

EXEMPLE

Considérons le graphe suivant :



On souhaite déterminer le plus court chemin du sommet A au sommet E.

A	B	C	D	E	F	Sommets sélectionnés
0	∞	∞	∞	∞	∞	A(0)
	8(A)	∞	∞	3(A)	∞	E(3)
	8(A)	∞	14(E)		∞	B(8)
		15(B)	14(E)		18(B)	D(14)
	15(B)				17(D)	C(15)
					17(D)	F(17)

Initialisation;
 $\delta(A) = 0$ A est sélectionné.
B et E sont les successeurs de A qui ne sont pas traités;
 $0 + 8 < \infty$ donc $\delta(B) = 8$ et $p(B) = A$;
 $0 + 3 < \infty$ donc $\delta(E) = 3$ et $p(E) = A$;
 $\delta_{min} = 3$, Le sommet E est sélectionné.
B et D sont les successeurs de E qui ne sont pas traités;
 $3 + 6 > 8$ on ne change pas $\delta(B) = 8$ et $p(B) = A$;
 $3 + 11 < \infty$ donc $\delta(D) = 14$ et $p(D) = E$;
 $\delta_{min} = 8$, Le sommet B est sélectionné.
C et F sont les successeurs de B qui ne sont pas traités;
 $8 + 7 < \infty$ donc $\delta(C) = 15$ et $p(C) = B$;
 $8 + 10 < \infty$ donc $\delta(F) = 18$ et $p(F) = B$;
 $\delta_{min} = 14$, Le sommet D est sélectionné.
F est le successeur de D qui n'est pas traité;
 $14 + 3 < 18$ donc $\delta(F) = 17$ et $p(F) = D$;
 $\delta_{min} = 15$, Le sommet C est sélectionné.
le successeur de C est déjà traité;
Le sommet F est le dernier sommet traité.

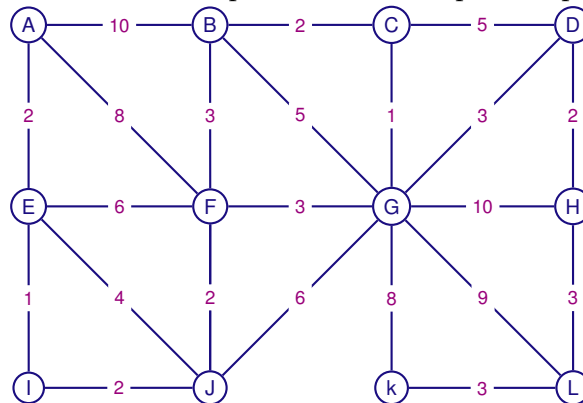
- L'algorithme de Dijkstra fournit les longueurs des plus courts chemins du sommet origine aux différents sommets.
- Pour déterminer le plus court chemin du sommet origine à un sommet x , il suffit de remonter la liste des prédécesseurs en partant de x .

Ainsi, le plus court chemin de A à F est un chemin de longueur 17.
Dans la colonne F on lit que le prédécesseur de F est le sommet D. Le prédécesseur de D est E et, le prédécesseur de E est A.
Ainsi, la liste des prédécesseurs est $F \leftarrow D \leftarrow E \leftarrow A$.
Le plus court chemin de A à F est donc : A-E-D-F.

EXERCICE 1

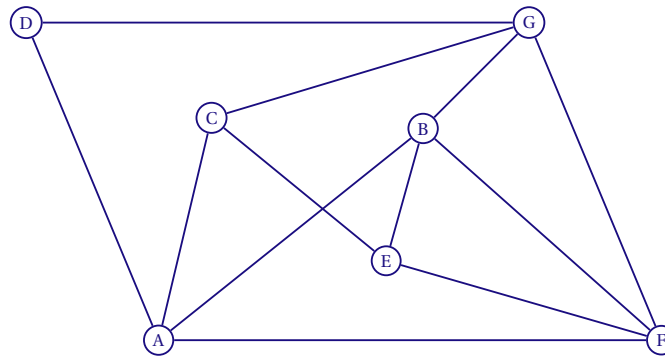
Le graphe ci-dessous indique les différentes liaisons entre plusieurs lieux. Le long de chaque arête figure la distance en kilomètres séparant les différents lieux.

En précisant la méthode utilisée, déterminer le plus court chemin possible pour aller de A à L.

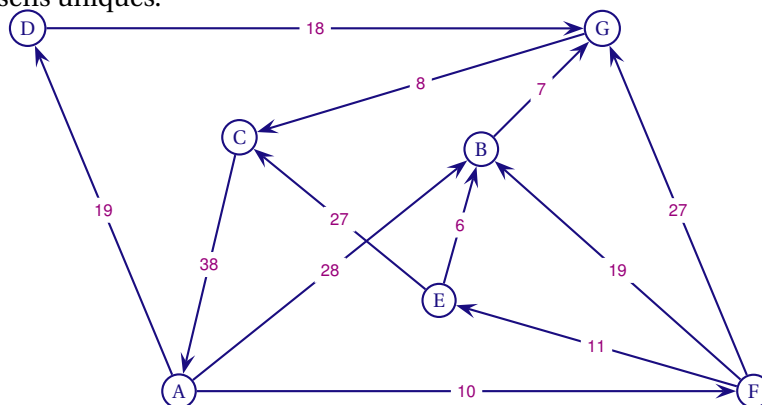


EXERCICE 2

On considère le graphe suivant :



1. Existe-t-il des chaînes de longueur 2 partant du sommet A et aboutissant au sommet C?
2. Le graphe admet-il des chaînes eulériennes? Si oui, en préciser une.
3. Le graphe pondéré ci-dessous, donne en minutes, les durées moyennes des parcours entre A et C en tenant compte des sens uniques.

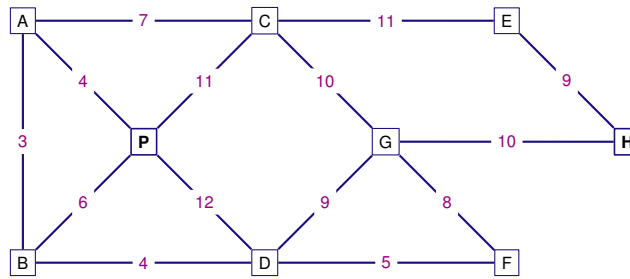


Un automobiliste doit se rendre de A à C. En utilisant un algorithme, déterminer le trajet le plus rapide pour aller de A à C.

Le retour sera-t-il plus rapide que l'aller?

EXERCICE 3

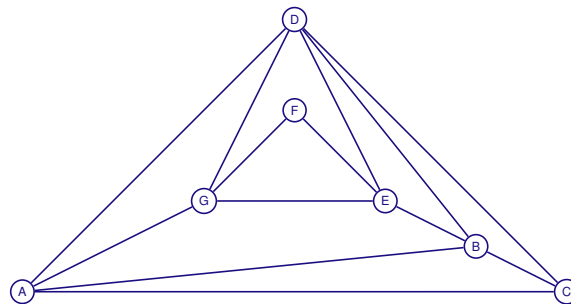
Dans le graphe ci-dessous, les sommets représentent différentes zones de résidence ou d'activités d'un quartier. Une arête reliant deux de ces sommets indique l'existence d'une voie d'accès principale entre deux lieux correspondants.



1. Pour sa campagne électorale, un candidat souhaite parcourir toutes les voies d'accès principales de ce quartier sans emprunter plusieurs fois la même voie.
 - a) Montrer qu'un tel parcours est possible.
 - b) Un tel parcours est-il possible pour ce candidat en partant de sa permanence électorale située en P ? si oui le donner, sinon proposer un parcours possible en partant d'un autre endroit.
2. Un candidat aux élections municipales se trouve dans sa permanence située en zone P quand on lui rappelle qu'il a un rendez-vous avec le responsable de l'hôpital situé en zone H .
 - a) Quel est le nombre minimal de voies d'accès principales que ce candidat devra emprunter pour arriver à son rendez-vous?
 - b) Le poids des arêtes du graphe précédent donne, en minutes, les durées moyennes des trajets existants entre les différents lieux :
En précisant la méthode utilisée, déterminer le plus court chemin que ce candidat devra emprunter pour arriver à son rendez-vous.
Combien de temps faut-il prévoir pour effectuer ce trajet?

EXERCICE 4

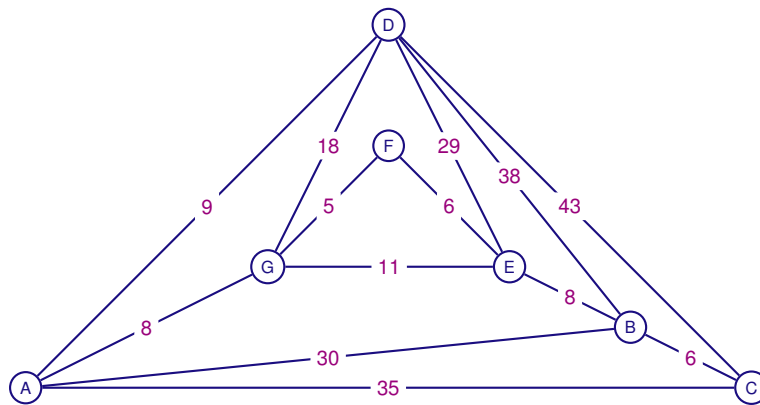
On considère le graphe ci-dessous :



1. On appelle M la matrice associée à ce graphe, les sommets étant pris dans l'ordre alphabétique. Une des trois matrices R , S ou T est la matrice M^3 .

$$R = \begin{pmatrix} 4 & 2 & 2 & 3 & 3 & 4 & 1 \\ 2 & 4 & 2 & 3 & 1 & 1 & 3 \\ 2 & 2 & 3 & 2 & 2 & 0 & 2 \\ 3 & 3 & 2 & 5 & 2 & 2 & 2 \\ 3 & 1 & 2 & 2 & 4 & 1 & 2 \\ 1 & 1 & 0 & 2 & 1 & 2 & 1 \\ 1 & 4 & 2 & 2 & 2 & 1 & 4 \end{pmatrix} \quad S = \begin{pmatrix} 8 & 12 & 9 & 12 & 7 & 4 & 11 \\ 12 & 8 & 9 & 12 & 11 & 4 & 7 \\ 9 & 9 & 6 & 11 & 6 & 4 & 6 \\ 12 & 12 & 11 & 12 & 12 & 4 & 12 \\ 7 & 11 & 6 & 12 & 6 & 6 & 10 \\ 4 & 4 & 4 & 4 & 6 & 2 & 6 \\ 11 & 7 & 6 & 12 & 10 & 6 & 6 \end{pmatrix} \quad T = \begin{pmatrix} 4 & 1 & 2 & 2 & 3 & 4 & 1 \\ 2 & 4 & 2 & 3 & 1 & 2 & 3 \\ 1 & 2 & 3 & 2 & 2 & 1 & 2 \\ 3 & 3 & 2 & 6 & 3 & 2 & 3 \\ 2 & 1 & 2 & 3 & 4 & 2 & 2 \\ 2 & 2 & 1 & 2 & 2 & 3 & 2 \\ 2 & 3 & 2 & 3 & 2 & 2 & 4 \end{pmatrix}$$

- Sans calculer la matrice M^3 , indiquer quelle est la matrice M^3 en justifiant votre choix.
2. Ce graphe est-il complet? Ce graphe est-il connexe?
 3. Ce graphe admet-il une chaîne eulérienne? Justifier la réponse. Si oui donner une telle chaîne.
 4. Un représentant, a modélisé à l'aide du graphe ci-dessous le réseau routier reliant différents clients notés A, B, C, D, E, F et G. Les arêtes sont pondérées par les distances en kilomètre à parcourir.



Après avoir visité le client C, ce représentant souhaite se rendre chez le client D.

- En précisant la méthode utilisée, déterminer le trajet le plus court (en kilomètres) pour aller de C à D. Préciser la longueur en kilomètres de ce trajet.
- Existe-t-il un parcours de même distance permettant à ce représentant de visiter tous ses clients?

EXERCICE 5

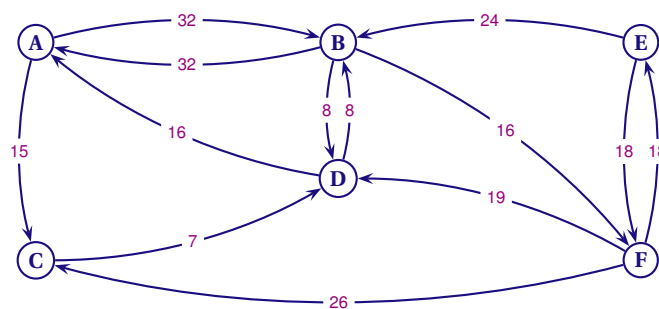
PARTIE A

On considère le graphe de sommets A, B, C, D, E et F dont la matrice associée est $M = \begin{pmatrix} 0 & 1 & 1 & 1 & 0 & 0 \\ 1 & 0 & 0 & 1 & 1 & 1 \\ 1 & 0 & 0 & 1 & 0 & 1 \\ 1 & 1 & 1 & 0 & 0 & 1 \\ 0 & 1 & 0 & 0 & 0 & 1 \\ 0 & 1 & 1 & 1 & 1 & 0 \end{pmatrix}$

- Quel est le nombre d'arêtes de ce graphe?
- Ce graphe est-il complet? Ce graphe est-il connexe?
- Ce graphe admet-il une chaîne eulérienne? Justifier la réponse. Si oui donner une telle chaîne.

PARTIE B

Après avoir chargé son camion à l'entrepôt noté A , un livreur doit livrer cinq clients notés B, C, D, E et F . Le graphe ci-dessous, modélise le réseau routier en tenant compte des sens de circulation et des temps de parcours en minutes.

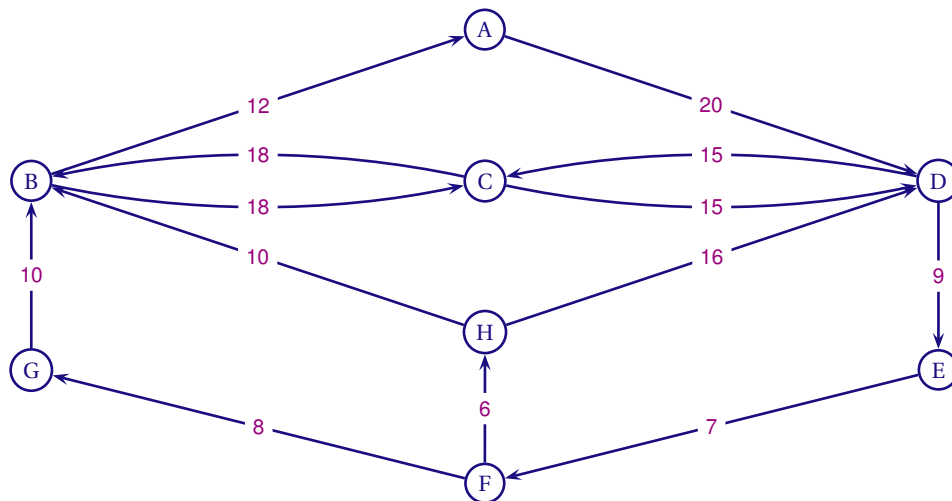


- Quel trajet permet de minimiser le temps de parcours pour effectuer les cinq livraisons?
- Après avoir effectué ses livraisons, le livreur doit retourner l'entrepôt. Quel trajet lui permet de minimiser son temps de parcours pour le retour?
En ne tenant pas compte des arrêts nécessaires pour effectuer les livraisons, le trajet du retour est-il plus rapide que celui de l'aller?

EXERCICE 6

PARTIE A

Le graphe orienté ci-dessous modélise le plan de circulation des poids lourds entre différents villages d'une zone touristique. Les arêtes sont pondérées par les distances entre deux villages, exprimées en kilomètres.



Un fournisseur dont le dépôt est situé dans le village D doit effectuer une livraison de produits frais, en camion frigorifique, à un client du village B.

À l'aide d'un algorithme, déterminer l'itinéraire le plus court entre les villages D et B. Quelle est la distance parcourue?

PARTIE B

Une agence de voyage propose un circuit touristique pour visiter les trois villages A, B et C. Le client peut choisir la durée du séjour dans chaque village.

L'agence distingue deux périodes, la haute et la basse saison, et différencie ses tarifs selon la période.

Les tarifs dans les différents villages, en euro par personne et par jour, sont donnés dans le tableau suivant.

	Village A	Village B	Village C
Nombre de jours	1	1	1
Tarif haute saison	160	220	140
Tarif basse saison	130	180	110

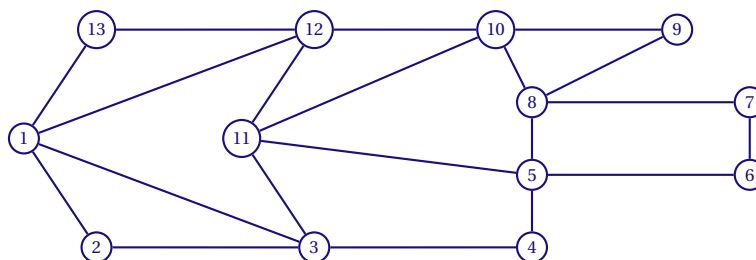
On note P la matrice $\begin{pmatrix} 1 & 1 & 1 \\ 160 & 220 & 140 \\ 130 & 180 & 110 \end{pmatrix}$.

Un client souhaite effectuer un circuit qui comprend quatre jours dans le village A, six jours dans le village B et deux jours dans le village C. On associe à ce choix la matrice $S = \begin{pmatrix} 4 \\ 6 \\ 2 \end{pmatrix}$.

1. Calculer le produit matriciel $P \times S$. Que représentent les termes de la matrice obtenue?
2. Ce client dispose d'un budget de 2 000 €. Pourra-t-il réaliser son voyage?

PARTIE C

Dans le village C se trouve un camping dont le plan est schématisé par le graphe ci-dessous. Les arêtes sont les allées du camping et les sommets les carrefours.



Afin d'optimiser le nettoyage des allées, le gestionnaire du camping souhaite établir un parcours qui passe une seule fois par chaque allée.

Un tel parcours est-il possible?